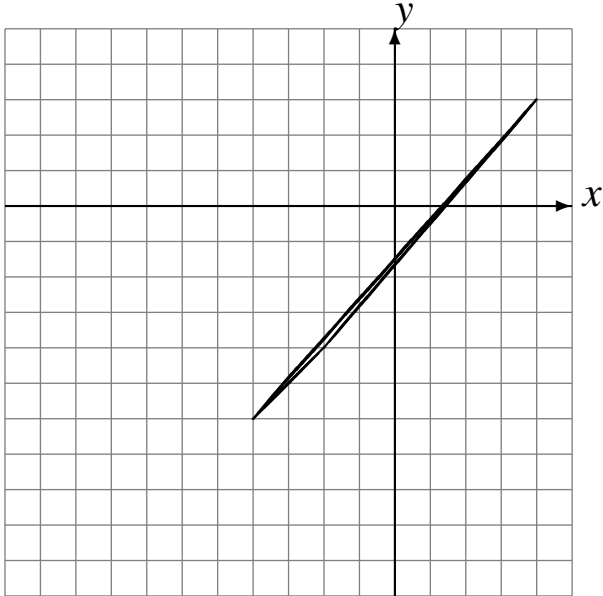


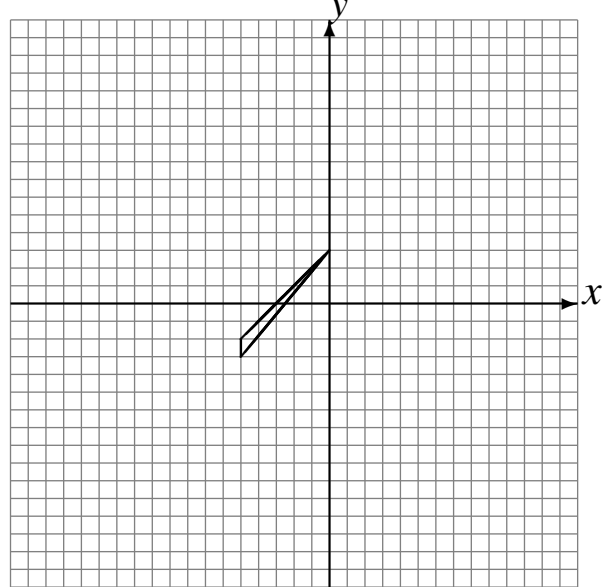
Réflexions (I)

Dessinez l'image finale et les étapes intermédiaires de la réflexion décrite.

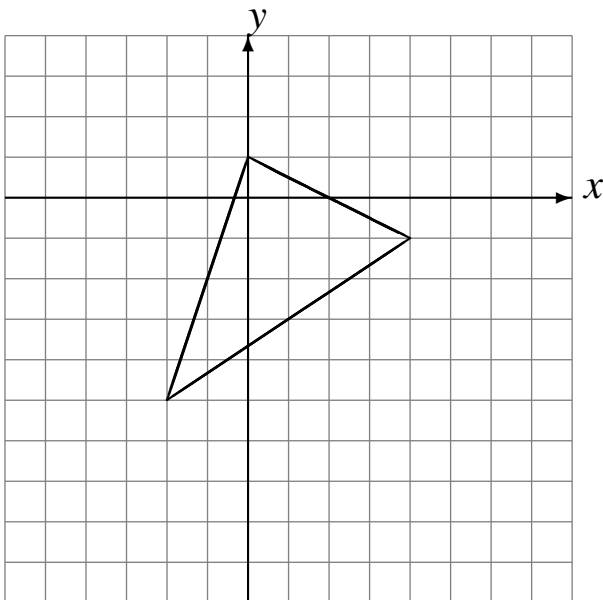
Réflexion par rapport à l'axe $x = -3$.
Réflexion par rapport à l'axe $y = -3$.



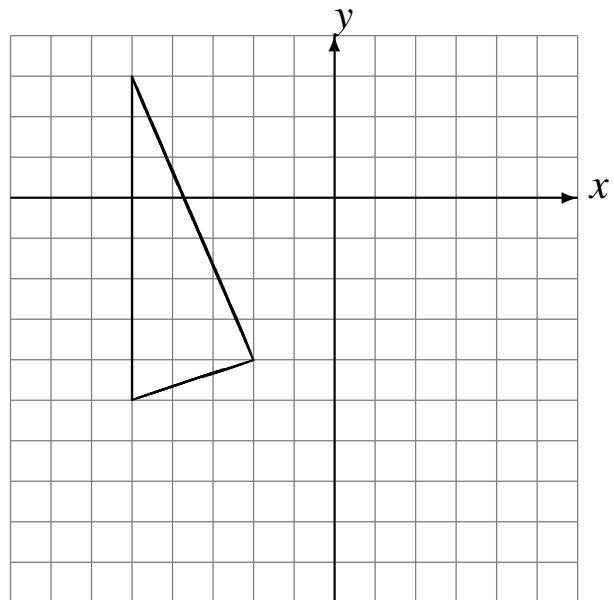
Réflexion par rapport à l'axe $x = 4$.
Réflexion par rapport à l'axe $x = -2$.



Réflexion par rapport à l'axe $y = -1$.
Réflexion par rapport à l'axe $y = -3$.



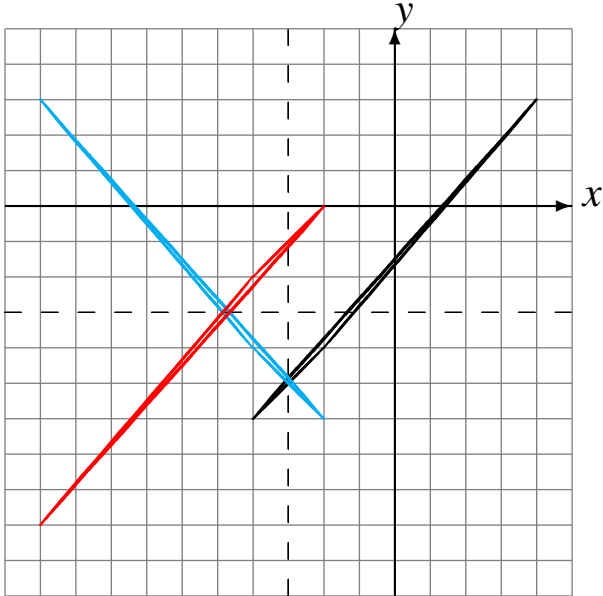
Réflexion par rapport à l'axe $y = -3$.
Réflexion par rapport à l'axe $x = -1$.



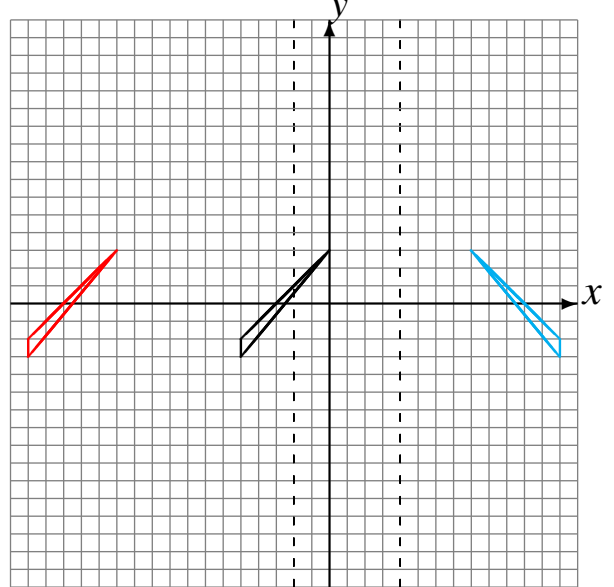
Réflexions (I) Solutions

Dessinez l'image finale et les étapes intermédiaires de la réflexion décrite.

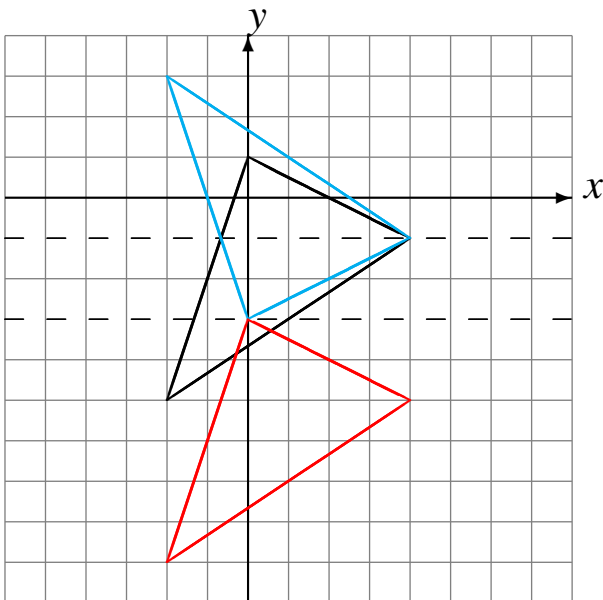
Réflexion par rapport à l'axe $x = -3$.
Réflexion par rapport à l'axe $y = -3$.



Réflexion par rapport à l'axe $x = 4$.
Réflexion par rapport à l'axe $x = -2$.



Réflexion par rapport à l'axe $y = -1$.
Réflexion par rapport à l'axe $y = -3$.



Réflexion par rapport à l'axe $y = -3$.
Réflexion par rapport à l'axe $x = -1$.

