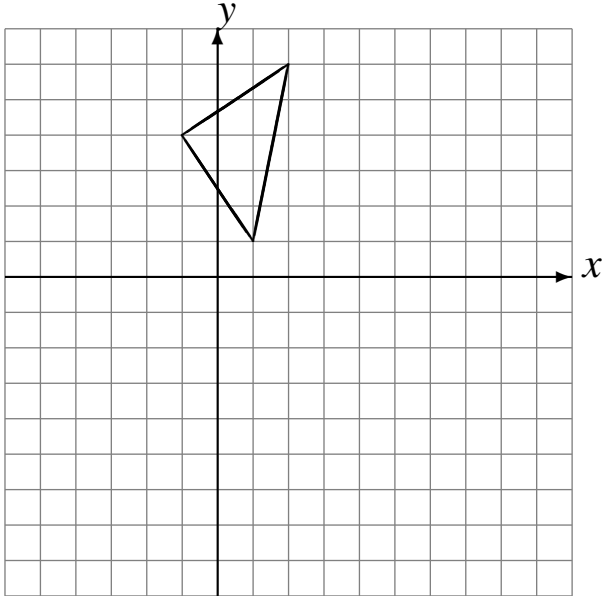


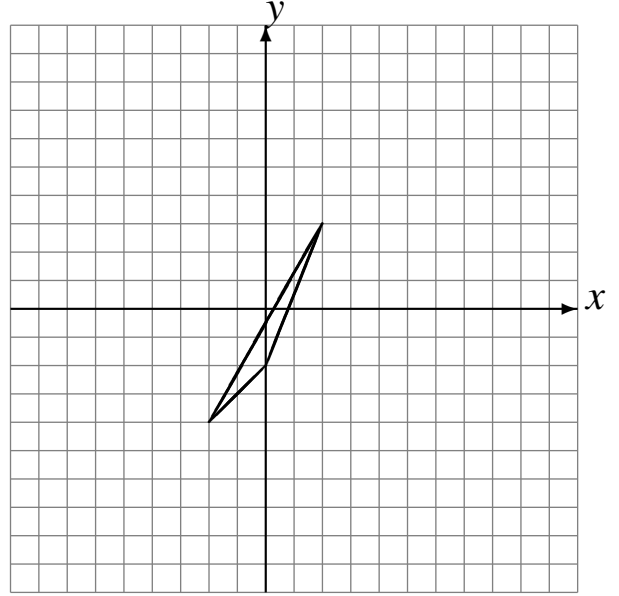
# Réflexions (H)

Dessinez l'image finale et les étapes intermédiaires de la réflexion décrite.

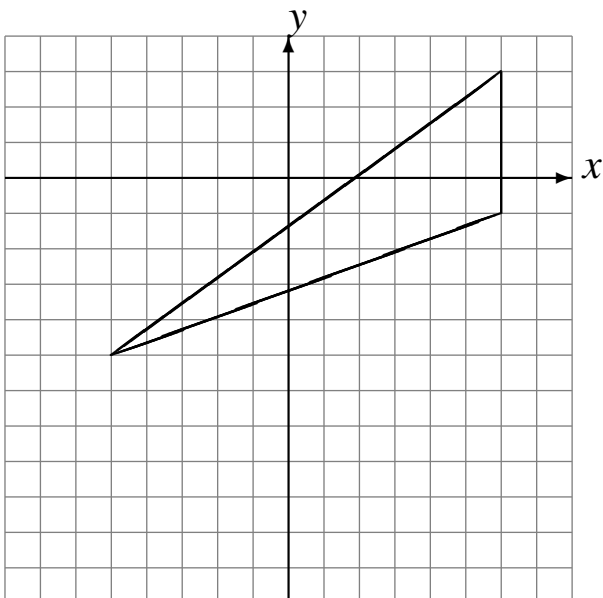
Réflexion par rapport à l'axe  $x = 2$ .  
Réflexion par rapport à l'axe  $y = -1$ .



Réflexion par rapport à l'axe  $x = 4$ .  
Réflexion par rapport à l'axe  $x = 1$ .



Réflexion par rapport à l'axe  $y = -4$ .  
Réflexion par rapport à l'axe  $x = 0$ .



Réflexion par rapport à l'axe  $y = -1$ .  
Réflexion par rapport à l'axe  $x = -4$ .

