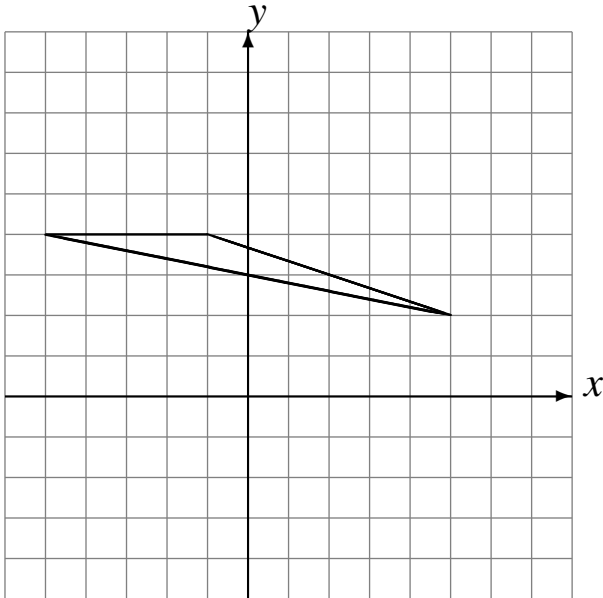


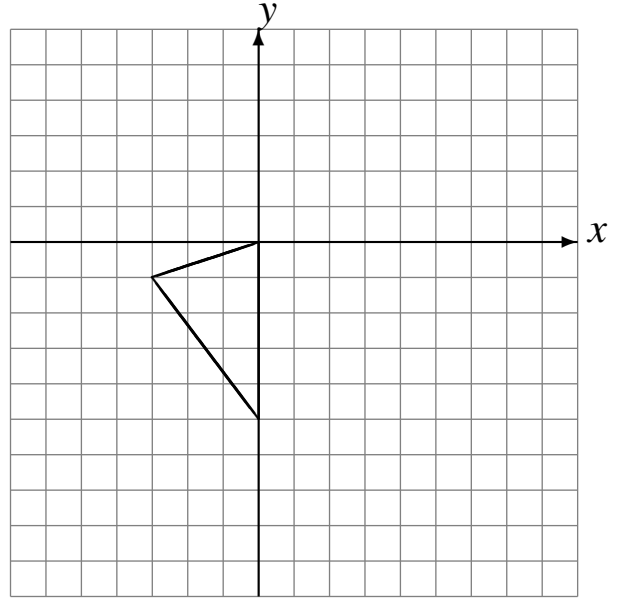
## Réflexions (D)

Dessinez l'image finale et les étapes intermédiaires de la réflexion décrite.

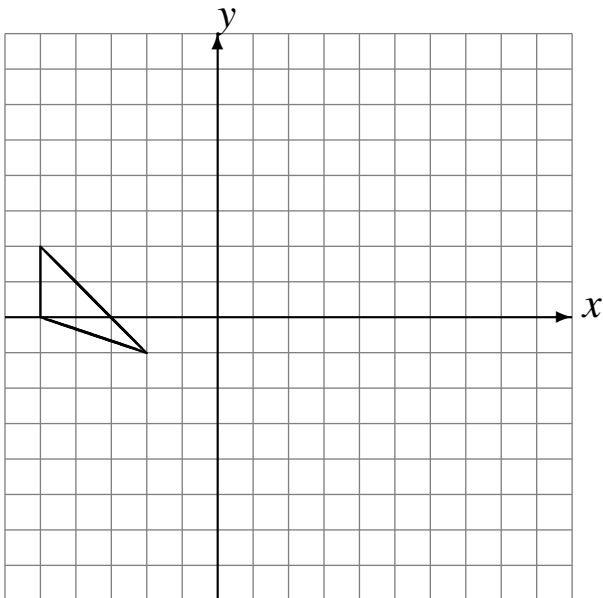
Réflexion par rapport à l'axe  $y = 3$ .  
Réflexion par rapport à l'axe  $x = 1$ .



Réflexion par rapport à l'axe  $x = -3$ .  
Réflexion par rapport à l'axe  $x = 1$ .



Réflexion par rapport à l'axe  $y = 0$ .  
Réflexion par rapport à l'axe  $x = 2$ .



Réflexion par rapport à l'axe  $x = 1$ .  
Réflexion par rapport à l'axe  $x = 1$ .

