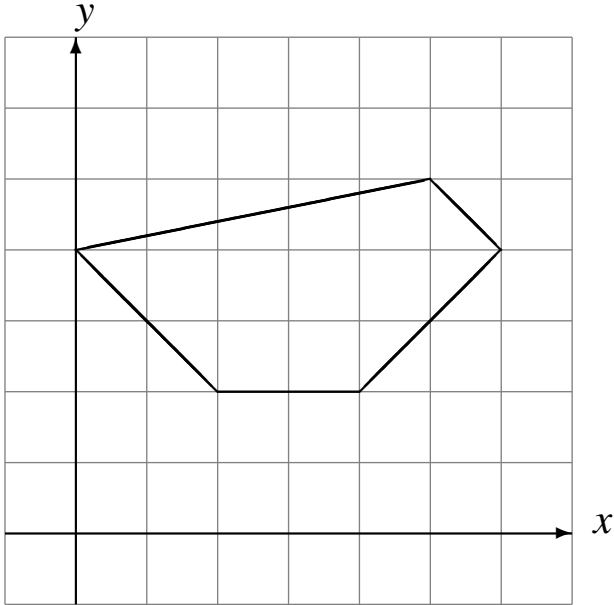


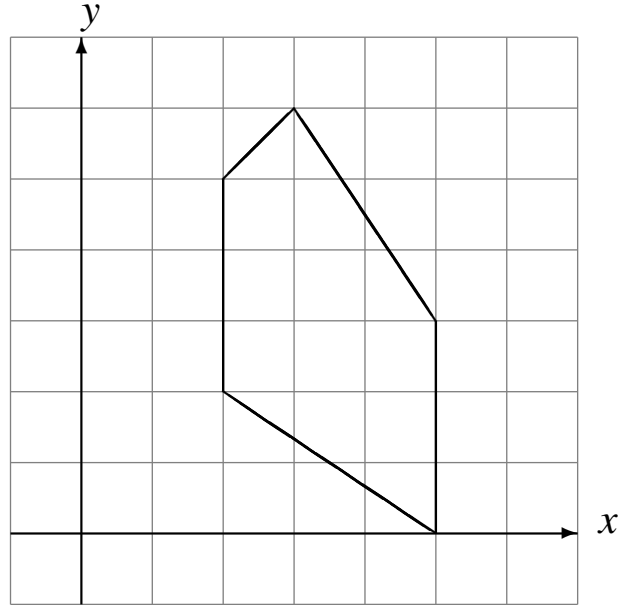
# L'Homothétie (E)

Dessinez l'image de l'homothétie décrite.

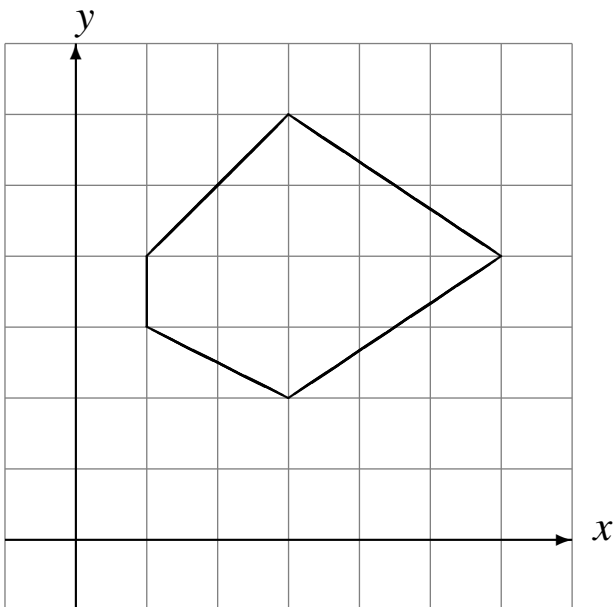
Homothétie de centre  $(0, 0)$  et de rapport  $\frac{1}{2}$ .



Homothétie de centre  $(0, 0)$  et de rapport  $\frac{1}{2}$ .



Homothétie de centre  $(0, 0)$  et de rapport  $\frac{1}{2}$ .



Homothétie de centre  $(0, 0)$  et de rapport  $\frac{1}{3}$ .

