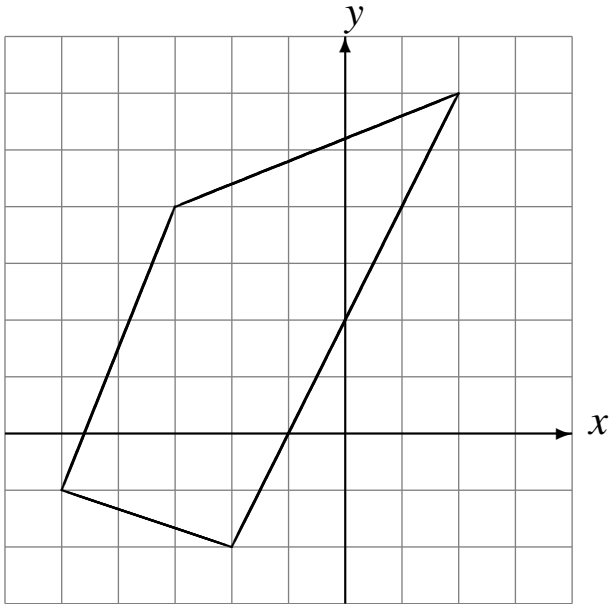


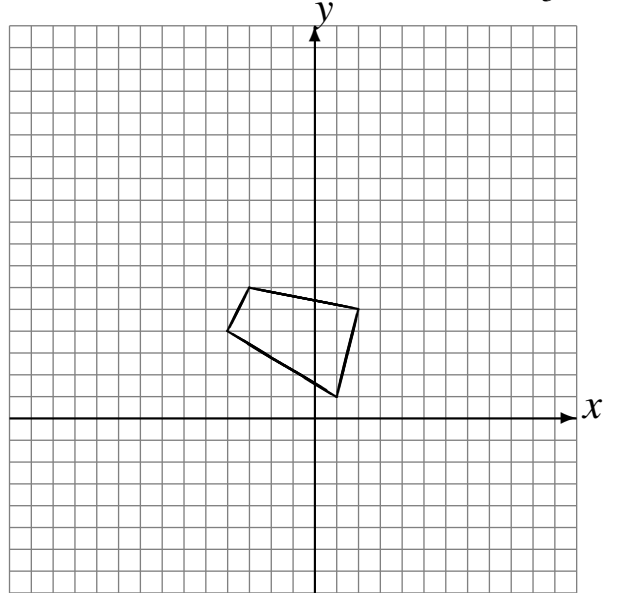
L'Homothétie (J)

Dessinez l'image finale et les étapes intermédiaires de l'homothétie décrite.

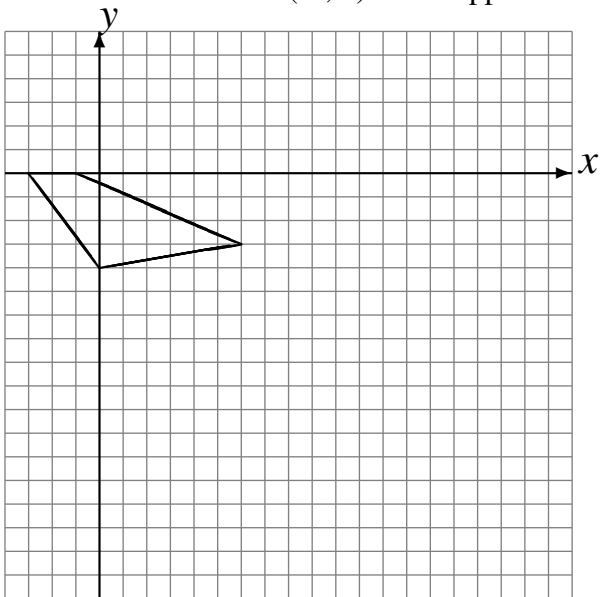
Homothétie de centre $(0, 3)$ et de rapport $\frac{1}{4}$.
Homothétie de centre $(5, -1)$ et de rapport $\frac{1}{3}$.



Homothétie de centre $(-1, 3)$ et de rapport 4.
Homothétie de centre $(1, 4)$ et de rapport $\frac{1}{3}$.



Homothétie de centre $(2, 4)$ et de rapport $\frac{1}{2}$.
Homothétie de centre $(-1, 5)$ et de rapport 4.



Homothétie de centre $(0, -5)$ et de rapport $\frac{1}{4}$.
Homothétie de centre $(-4, 1)$ et de rapport $\frac{1}{3}$.

