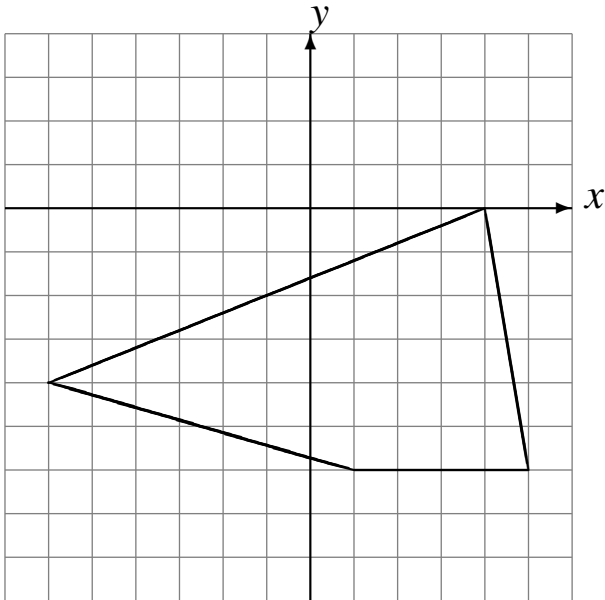


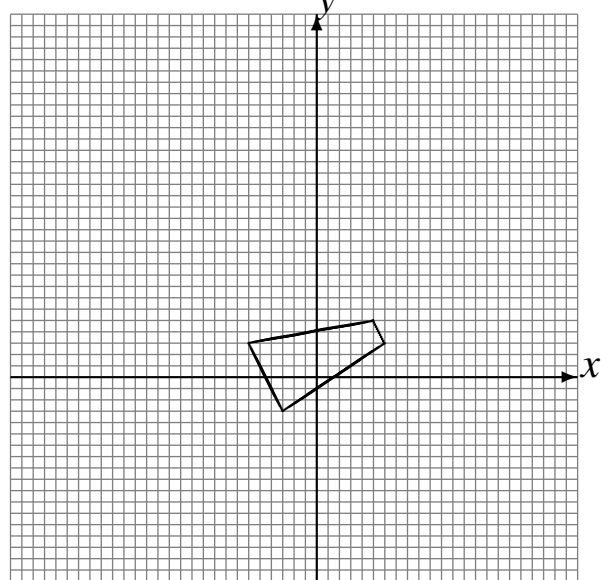
L'Homothétie (I)

Dessinez l'image finale et les étapes intermédiaires de l'homothétie décrite.

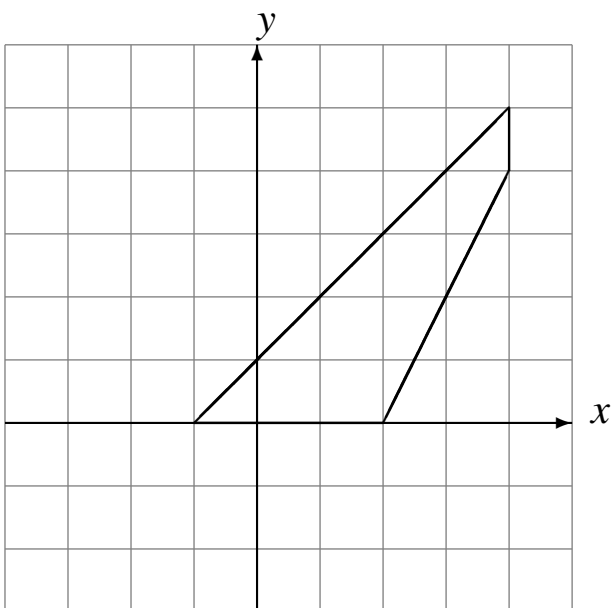
Homothétie de centre $(-2, -2)$ et de rapport $\frac{1}{4}$.
Homothétie de centre $(-2, -1)$ et de rapport 2.



Homothétie de centre $(0, -3)$ et de rapport 2.
Homothétie de centre $(2, 3)$ et de rapport 2.



Homothétie de centre $(-3, 0)$ et de rapport $\frac{1}{3}$.
Homothétie de centre $(-4, -3)$ et de rapport $\frac{1}{3}$.



Homothétie de centre $(-4, 0)$ et de rapport 2.
Homothétie de centre $(-4, -5)$ et de rapport $\frac{1}{4}$.

