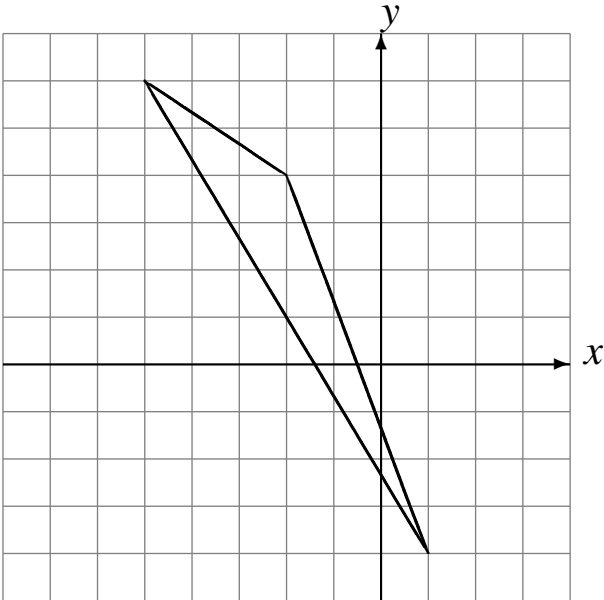


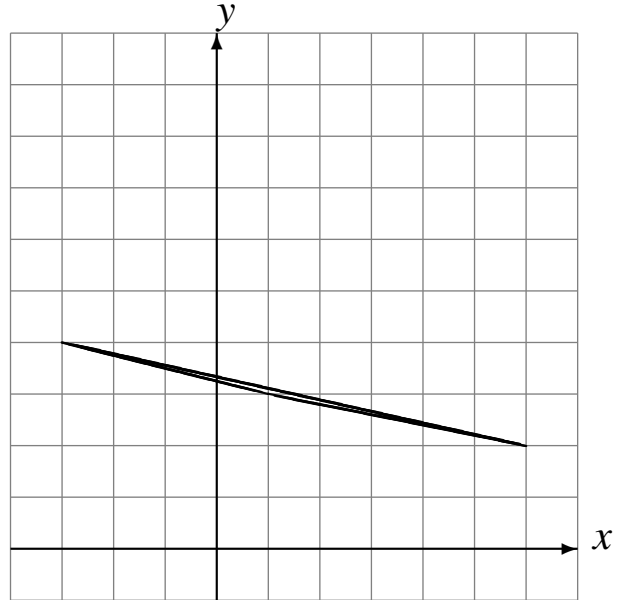
L'Homothétie (J)

Dessinez l'image finale et les étapes intermédiaires de l'homothétie décrite.

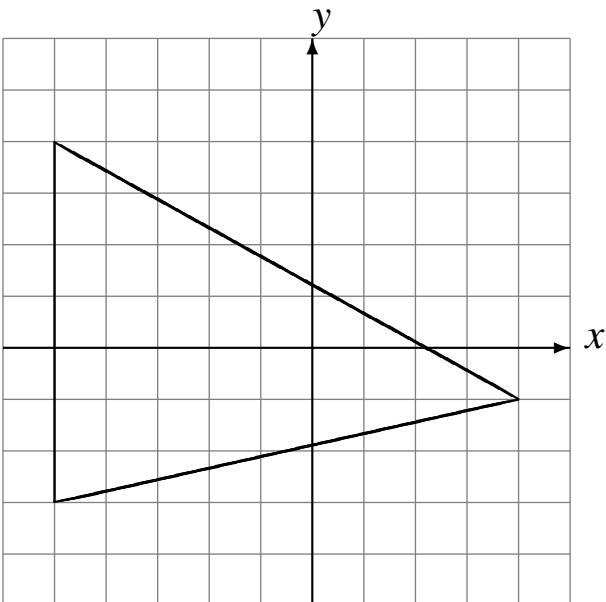
Homothétie de centre $(-1, -3)$ et de rapport $\frac{1}{4}$.
Homothétie de centre $(-4, 3)$ et de rapport $\frac{1}{4}$.



Homothétie de centre $(-1, 4)$ et de rapport $\frac{1}{3}$.
Homothétie de centre $(-1, -1)$ et de rapport 2.



Homothétie de centre $(2, 4)$ et de rapport $\frac{1}{3}$.
Homothétie de centre $(1, 4)$ et de rapport 2.



Homothétie de centre $(3, 4)$ et de rapport 4.
Homothétie de centre $(-1, -4)$ et de rapport $\frac{1}{3}$.

