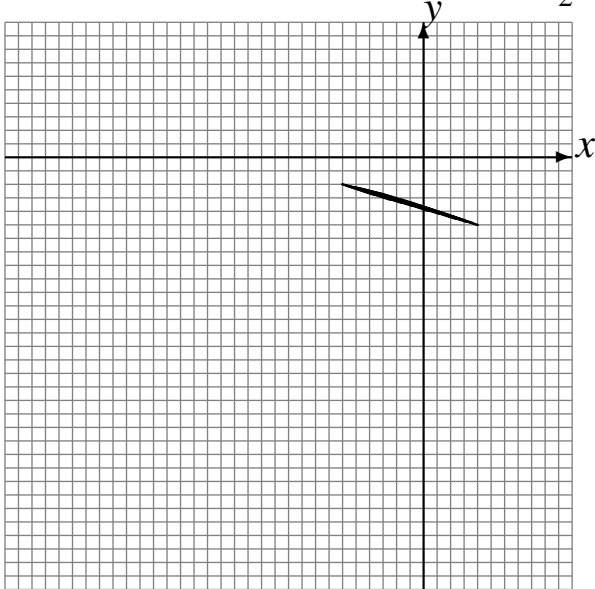


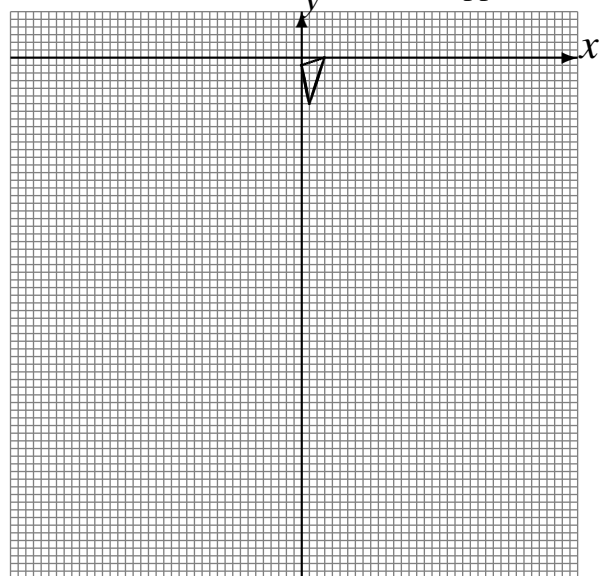
L'Homothétie (H)

Dessinez l'image finale et les étapes intermédiaires de l'homothétie décrite.

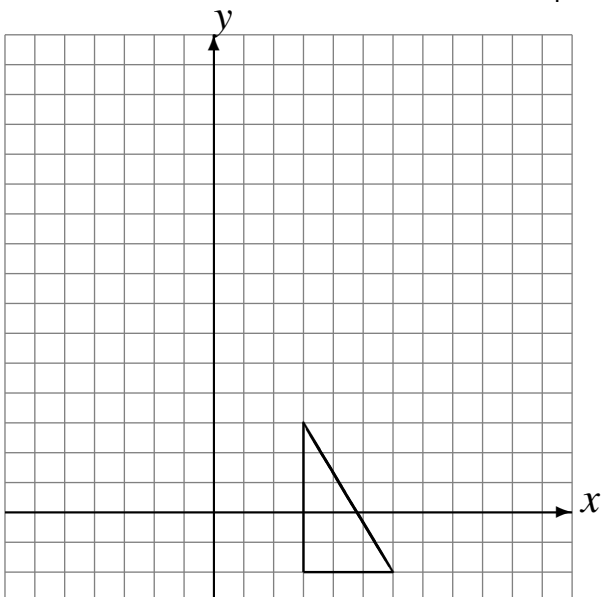
Homothétie de centre $(2, 1)$ et de rapport 4 .
Homothétie de centre $(-3, -1)$ et de rapport $\frac{1}{2}$.



Homothétie de centre $(1, -1)$ et de rapport 4 .
Homothétie de centre $(5, 2)$ et de rapport 3 .



Homothétie de centre $(5, -3)$ et de rapport 3 .
Homothétie de centre $(-5, 0)$ et de rapport $\frac{1}{4}$.



Homothétie de centre $(3, 1)$ et de rapport $\frac{1}{2}$.
Homothétie de centre $(-5, -2)$ et de rapport $\frac{1}{2}$.

