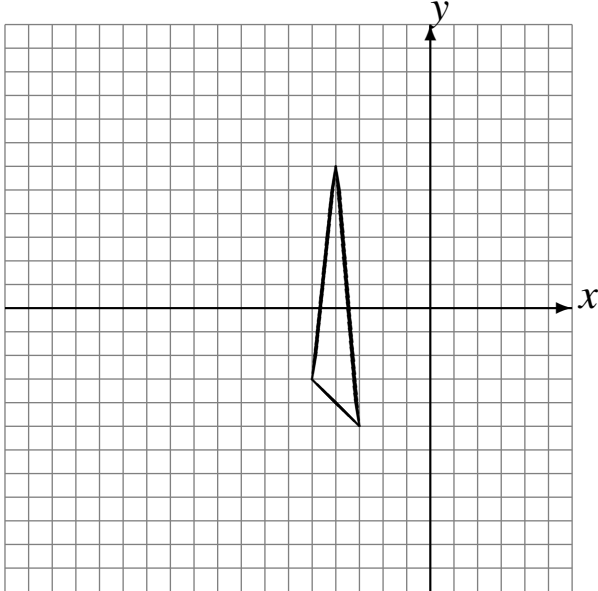


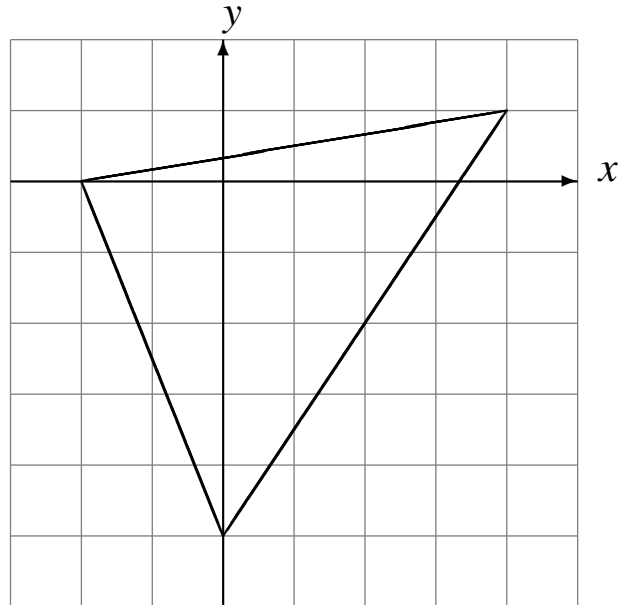
# L'Homothétie (H)

Dessinez l'image de l'homothétie décrite.

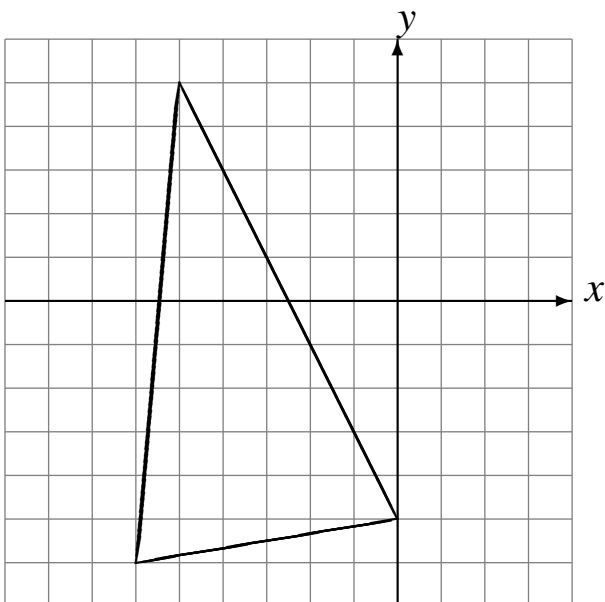
Homothétie de centre  $(2, 1)$  et de rapport  $2$ .



Homothétie de centre  $(1, 1)$  et de rapport  $\frac{1}{3}$ .



Homothétie de centre  $(-2, -1)$  et de rapport  $\frac{1}{4}$ .



Homothétie de centre  $(-5, -2)$  et de rapport  $\frac{1}{4}$ .

