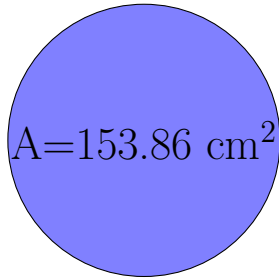
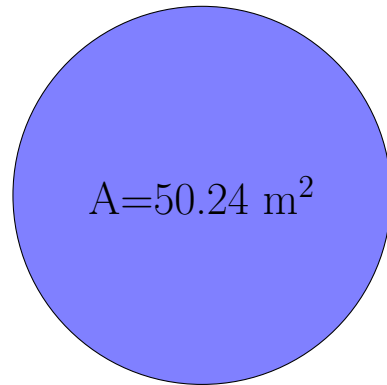


## Calcul du Rayon et Diamètre des Cercles (J)

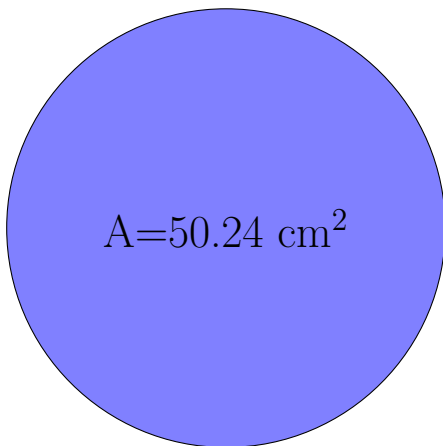
Calculez les mesures de chaque cercles à l'aide de la mesure donnée. Utilisez  $\pi = 3.14$



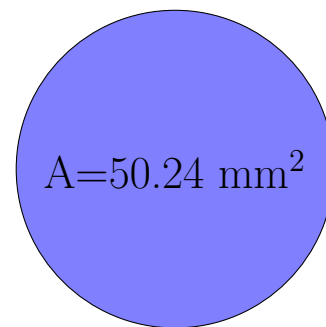
rayon = \_\_\_\_\_  
diamètre = \_\_\_\_\_



rayon = \_\_\_\_\_  
diamètre = \_\_\_\_\_



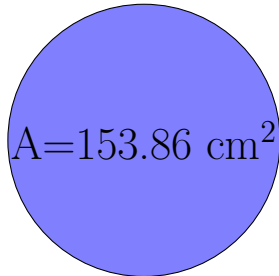
rayon = \_\_\_\_\_  
diamètre = \_\_\_\_\_



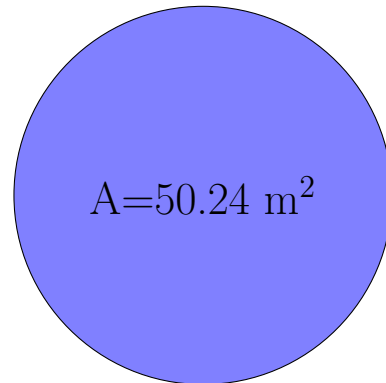
rayon = \_\_\_\_\_  
diamètre = \_\_\_\_\_

## Calcul du Rayon et Diamètre des Cercles (J) Solutions

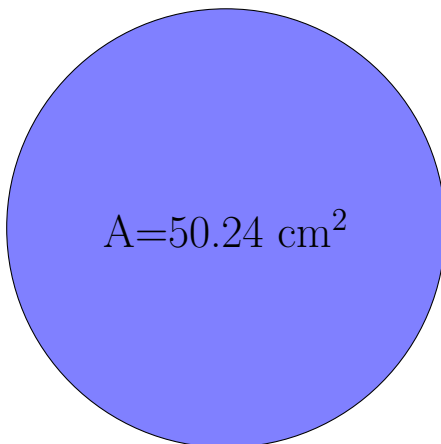
Calculez les mesures de chaque cercles à l'aide de la mesure donnée. Utilisez  $\pi = 3.14$



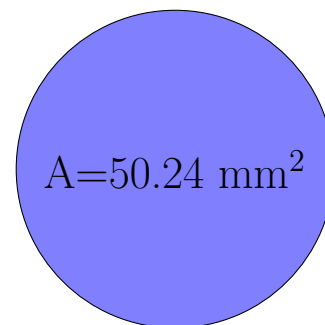
$$\begin{aligned} \text{rayon} &= \underline{7 \text{ cm}} \\ \text{diamètre} &= \underline{14 \text{ cm}} \end{aligned}$$



$$\begin{aligned} \text{rayon} &= \underline{4 \text{ m}} \\ \text{diamètre} &= \underline{8 \text{ m}} \end{aligned}$$



$$\begin{aligned} \text{rayon} &= \underline{4 \text{ cm}} \\ \text{diamètre} &= \underline{8 \text{ cm}} \end{aligned}$$



$$\begin{aligned} \text{rayon} &= \underline{4 \text{ mm}} \\ \text{diamètre} &= \underline{8 \text{ mm}} \end{aligned}$$