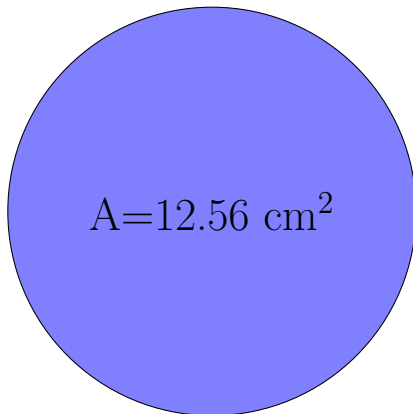
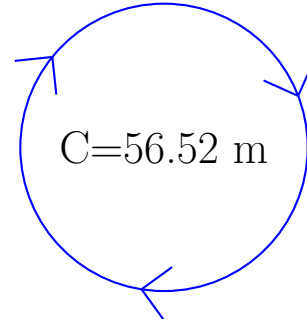


## Calcul du Rayon et Diamètre des Cercles (E)


Calculez les mesures de chaque cercles à l'aide de la mesure donnée. Utilisez  $\pi = 3.14$



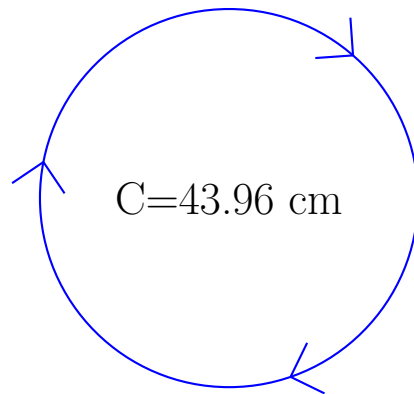
rayon = \_\_\_\_\_  
diamètre = \_\_\_\_\_



rayon = \_\_\_\_\_  
diamètre = \_\_\_\_\_



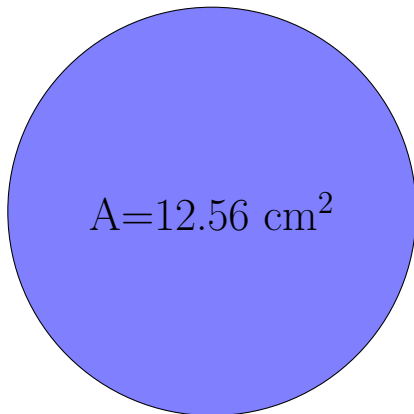
rayon = \_\_\_\_\_  
diamètre = \_\_\_\_\_



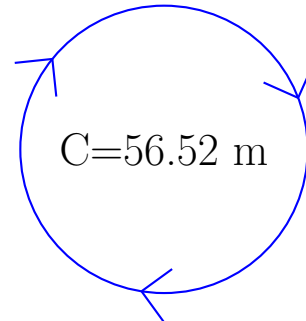
rayon = \_\_\_\_\_  
diamètre = \_\_\_\_\_

## Calcul du Rayon et Diamètre des Cercles (E) Solutions


Calculez les mesures de chaque cercles à l'aide de la mesure donnée. Utilisez  $\pi = 3.14$



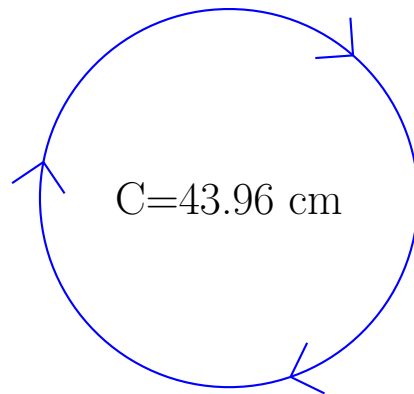
$$\begin{aligned} \text{rayon} &= \underline{\quad 2 \text{ cm} \quad} \\ \text{diamètre} &= \underline{\quad 4 \text{ cm} \quad} \end{aligned}$$



$$\begin{aligned} \text{rayon} &= \underline{\quad 9 \text{ m} \quad} \\ \text{diamètre} &= \underline{\quad 18 \text{ m} \quad} \end{aligned}$$



$$\begin{aligned} \text{rayon} &= \underline{\quad 3 \text{ cm} \quad} \\ \text{diamètre} &= \underline{\quad 6 \text{ cm} \quad} \end{aligned}$$



$$\begin{aligned} \text{rayon} &= \underline{\quad 7 \text{ cm} \quad} \\ \text{diamètre} &= \underline{\quad 14 \text{ cm} \quad} \end{aligned}$$