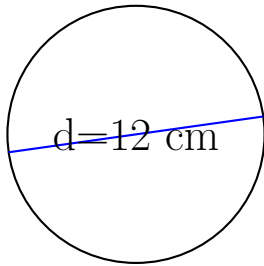
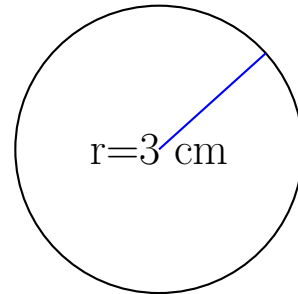


Calcul des Mesures d'un Cercle (G)

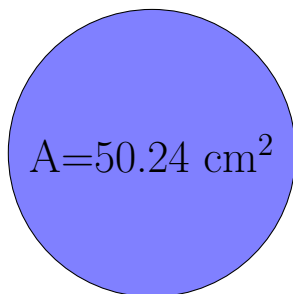
Calculez les mesures de chaque cercles à l'aide de la mesure donnée. Utilisez $\pi = 3.14$



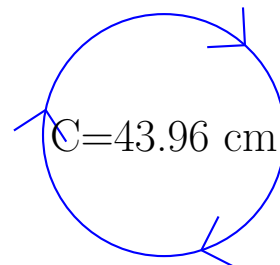
rayon = _____
 diamètre = 12 cm
 circonférence = _____
 aire = _____



rayon = 3 cm
 diamètre = _____
 circonférence = _____
 aire = _____



rayon = _____
 diamètre = _____
 circonférence = _____
 aire = 50.24 cm²



rayon = _____
 diamètre = _____
 circonférence = 43.96 cm
 aire = _____