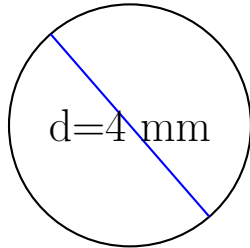
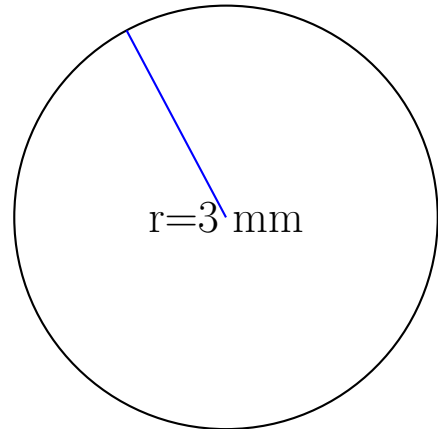


Calcul des Mesures d'un Cercle (D)

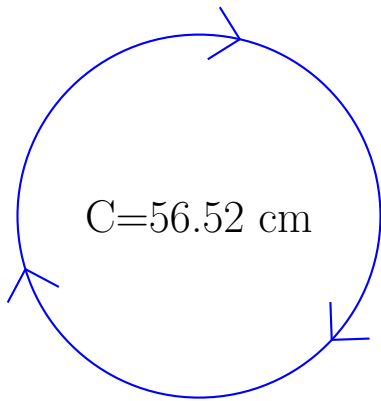
Calculez les mesures de chaque cercles à l'aide de la mesure donnée. Utilisez $\pi = 3.14$




rayon = _____
diamètre = 4 mm
circonférence = _____
aire = _____



rayon = 3 mm
diamètre = _____
circonférence = _____
aire = _____



rayon = _____
diamètre = _____
circonférence = 56.52 cm
aire = _____



rayon = _____
diamètre = _____
circonférence = _____
aire = 28.26 m²