



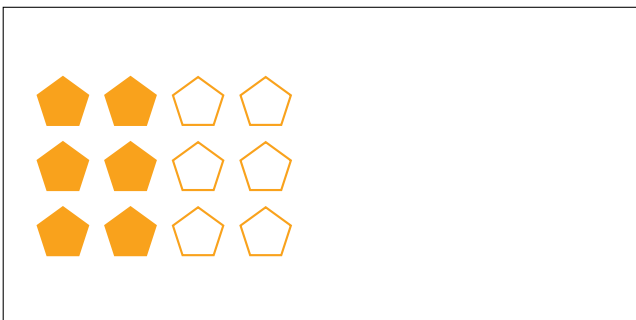



# Modèles d'un Ensemble (D)




Dans cet ensemble  
il y a 18 figures  
et 9 sont coloriées.

$$\frac{9 \text{ figures coloriées}}{18 \text{ figures dans cet ensemble}} = \frac{9}{18} = \frac{1}{2}$$

Écrivez une fraction pour chacun des modèles suivants.




# Modèles d'un Ensemble (D) Réponses




Dans cet ensemble  
il y a 18 figures  
et 9 sont coloriées.

$$\frac{9 \text{ figures coloriées}}{18 \text{ figures dans cet ensemble}} = \frac{9}{18} = \frac{1}{2}$$

Écrivez une fraction pour chacun des modèles suivants.



$$\frac{10}{20} = \frac{1}{2}$$



$$\frac{12}{24} = \frac{1}{2}$$



$$\frac{2}{4} = \frac{1}{2}$$




$$\frac{4}{8} = \frac{1}{2}$$




$$\frac{1}{2}$$



$$\frac{3}{6} = \frac{1}{2}$$



$$\frac{6}{12} = \frac{1}{2}$$



$$\frac{5}{10} = \frac{1}{2}$$