


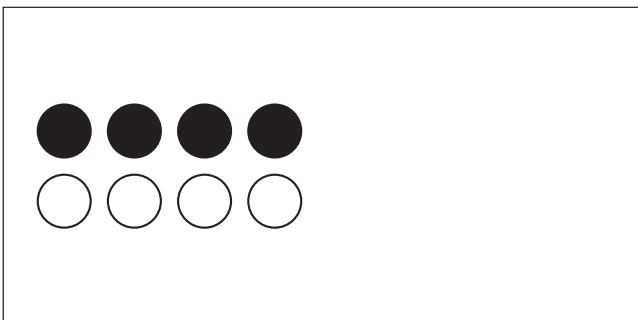
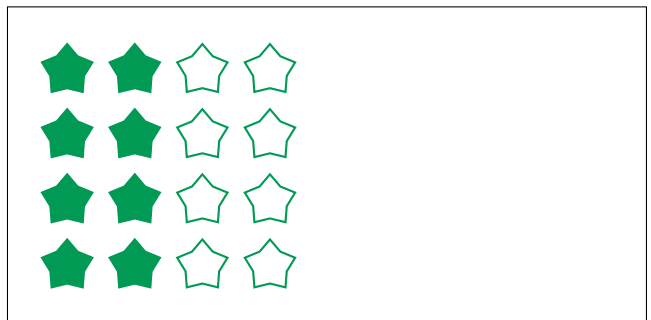
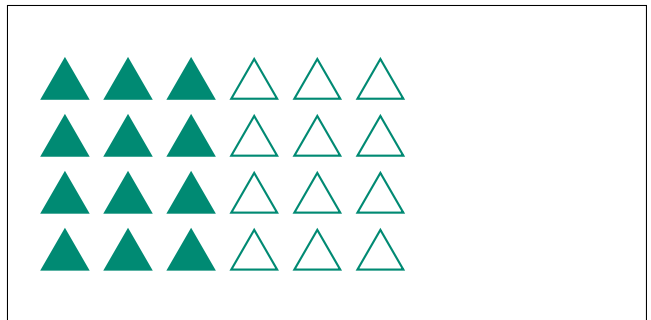
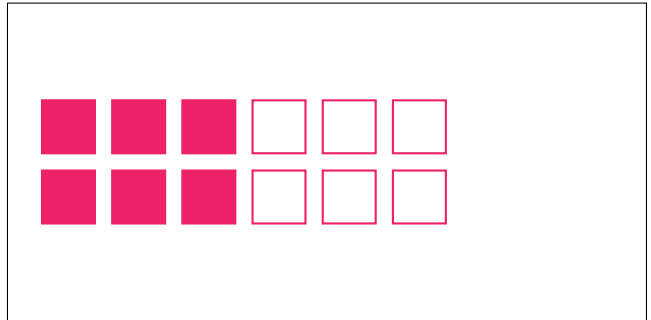

Modèles d'un Ensemble (C)




Dans cet ensemble
il y a 20 figures et
10 sont coloriées.

$$\frac{10 \text{ figures coloriées}}{20 \text{ figures dans cet ensemble}} = \frac{10}{20} = \frac{1}{2}$$

Écrivez une fraction pour chacun des modèles suivants.



Modèles d'un Ensemble (C) Réponses



Dans cet ensemble
il y a 20 figures et
10 sont coloriées.

$$\frac{10 \text{ figures coloriées}}{20 \text{ figures dans cet ensemble}} = \frac{10}{20} = \frac{1}{2}$$

Écrivez une fraction pour chacun des modèles suivants.




$$\frac{2}{4} = \frac{1}{2}$$



$$\frac{6}{12} = \frac{1}{2}$$




$$\frac{3}{6} = \frac{1}{2}$$




$$\frac{12}{24} = \frac{1}{2}$$



$$\frac{5}{10} = \frac{1}{2}$$



$$\frac{8}{16} = \frac{1}{2}$$



$$\frac{4}{8} = \frac{1}{2}$$



$$\frac{1}{2}$$