


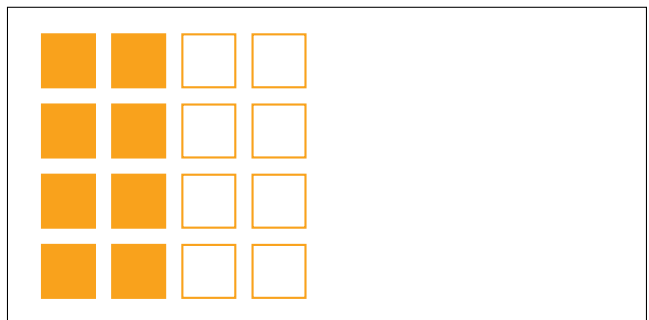

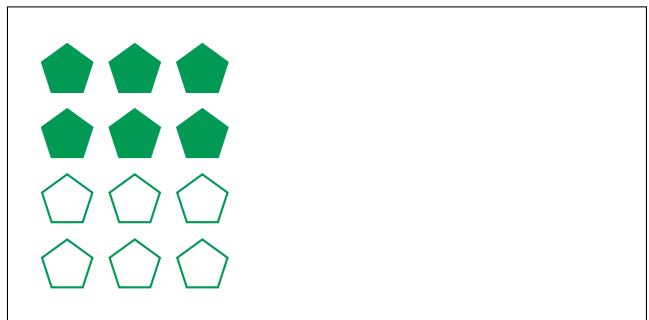
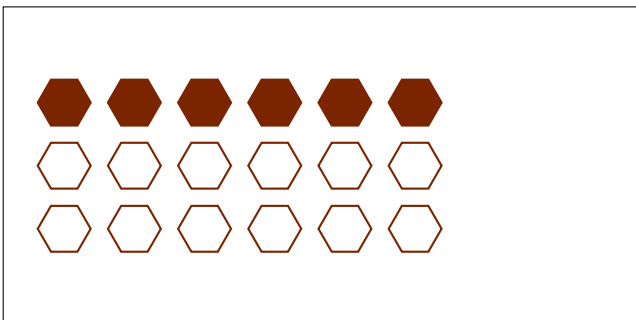

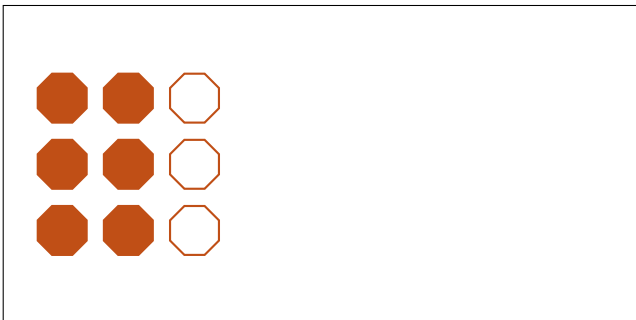
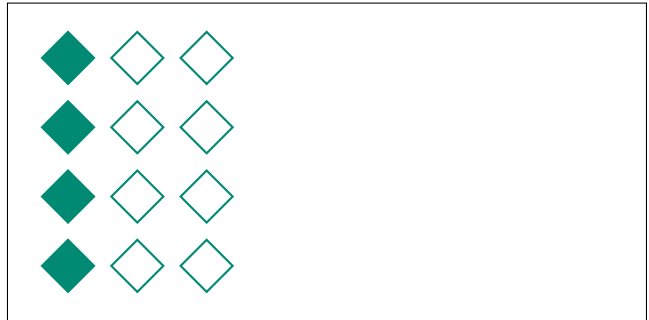

# Modèles d'un Ensemble (H)




Dans cet ensemble  
il y a 6 figures et  
3 sont coloriées.

$$\frac{3 \text{ figures coloriées}}{6 \text{ figures dans cet ensemble}} = \frac{3}{6} = \frac{1}{2}$$

Écrivez une fraction pour chacun des modèles suivants.



# Modèles d'un Ensemble (H) Réponses



Dans cet ensemble  
il y a 6 figures et  
3 sont coloriées.

$$\frac{3 \text{ figures coloriées}}{6 \text{ figures dans cet ensemble}} = \frac{3}{6} = \frac{1}{2}$$

Écrivez une fraction pour chacun des modèles suivants.

$$\frac{8}{24} = \frac{1}{3}$$

$$\frac{4}{12} = \frac{1}{3}$$

$$\frac{6}{9} = \frac{2}{3}$$

$$\frac{12}{18} = \frac{2}{3}$$

$$\frac{6}{18} = \frac{1}{3}$$

$$\frac{6}{12} = \frac{1}{2}$$

$$\frac{10}{20} = \frac{1}{2}$$

$$\frac{8}{16} = \frac{1}{2}$$