


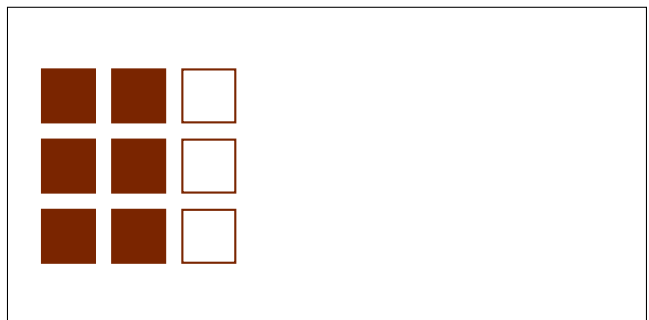




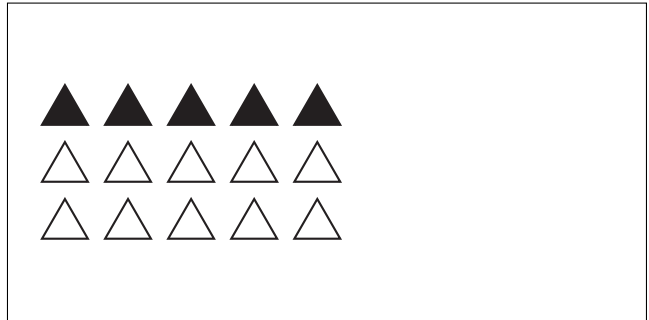
# Modèles d'un Ensemble (C)



Dans cet ensemble  
il y a 6 figures et  
2 sont coloriées.

$$\frac{2 \text{ figures coloriées}}{6 \text{ figures dans cet ensemble}} = \frac{2}{6} = \frac{1}{3}$$

Écrivez une fraction pour chacun des modèles suivants.



# Modèles d'un Ensemble (C) Réponses



Dans cet ensemble  
il y a 6 figures et  
2 sont coloriées.

$$\frac{2 \text{ figures coloriées}}{6 \text{ figures dans cet ensemble}} = \frac{2}{6} = \frac{1}{3}$$

Écrivez une fraction pour chacun des modèles suivants.

$$\frac{10}{15} = \frac{2}{3}$$

$$\frac{5}{15} = \frac{1}{3}$$

$$\frac{5}{10} = \frac{1}{2}$$

$$\frac{4}{6} = \frac{2}{3}$$

$$\frac{6}{12} = \frac{1}{2}$$

$$\frac{12}{24} = \frac{1}{2}$$

$$\frac{4}{8} = \frac{1}{2}$$

$$\frac{6}{9} = \frac{2}{3}$$