

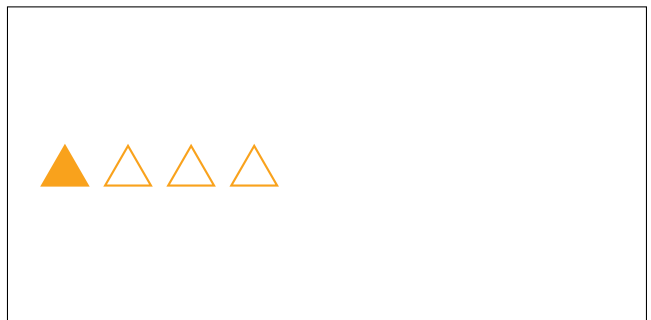
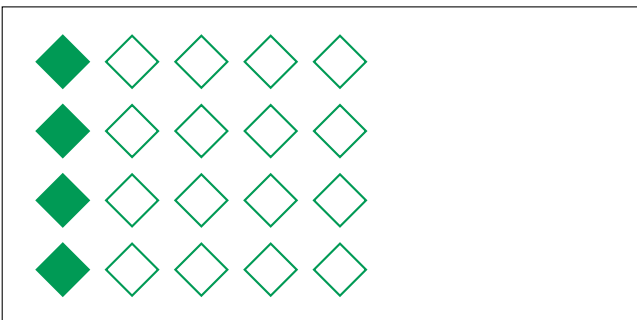




Modèles d'un Ensemble (H)



Dans cet ensemble
il y a 5 figures et
2 sont coloriées.

$$\frac{2 \text{ figures coloriées}}{5 \text{ figures dans cet ensemble}} = \frac{2}{5}$$

Écrivez une fraction pour chacun des modèles suivants.



Modèles d'un Ensemble (H) Réponses



Dans cet ensemble
il y a 5 figures et
2 sont coloriées.

$$\frac{2 \text{ figures coloriées}}{5 \text{ figures dans cet ensemble}} = \frac{2}{5}$$

Écrivez une fraction pour chacun des modèles suivants.

$$\frac{8}{20} = \frac{2}{5}$$

$$\frac{6}{9} = \frac{2}{3}$$

$$\frac{6}{10} = \frac{3}{5}$$

$$\frac{8}{10} = \frac{4}{5}$$

$$\frac{4}{20} = \frac{1}{5}$$

$$\frac{1}{4}$$

$$\frac{6}{12} = \frac{1}{2}$$

$$\frac{1}{3}$$