




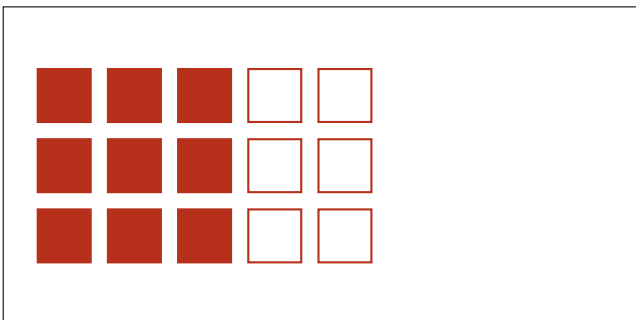
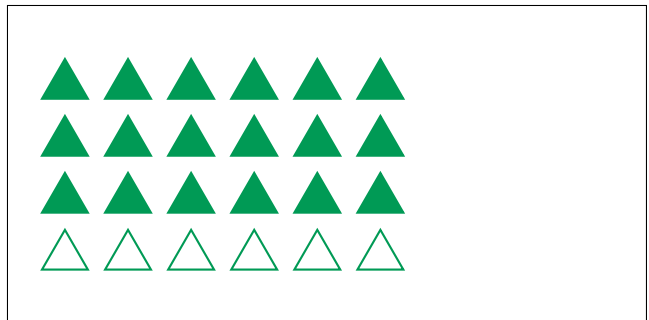


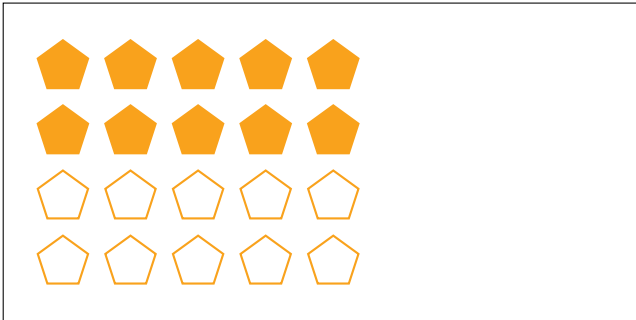
Modèles d'un Ensemble (D)




Dans cet ensemble
il y a 15 figures
et 9 sont coloriées.

$$\frac{9 \text{ figures coloriées}}{15 \text{ figures dans cet ensemble}} = \frac{9}{15} = \frac{3}{5}$$

Écrivez une fraction pour chacun des modèles suivants.



Modèles d'un Ensemble (D) Réponses



Dans cet ensemble
il y a 15 figures
et 9 sont coloriées.

$$\frac{9 \text{ figures coloriées}}{15 \text{ figures dans cet ensemble}} = \frac{9}{15} = \frac{3}{5}$$

Écrivez une fraction pour chacun des modèles suivants.

$$\frac{10}{20} = \frac{1}{2}$$

$$\frac{6}{18} = \frac{1}{3}$$

$$\frac{8}{12} = \frac{2}{3}$$

$$\frac{18}{24} = \frac{3}{4}$$

$$\frac{9}{15} = \frac{3}{5}$$

$$\frac{15}{18} = \frac{5}{6}$$

$$\frac{8}{20} = \frac{2}{5}$$

$$\frac{1}{6}$$