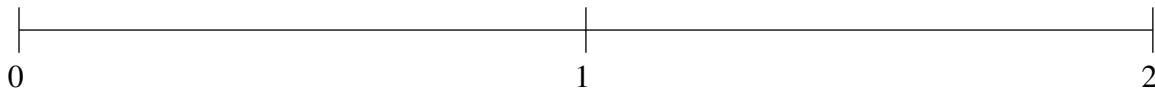


Classification de Fractions (H)

À l'aide des droites numériques, classifiez chaque série de fractions ci-dessous en ordre croissant.

$$1\frac{12}{13}, \frac{1}{7}, 1\frac{1}{2}, \frac{1}{2}, \frac{7}{8}$$



$$1\frac{1}{6}, \frac{4}{5}, \frac{1}{8}, \frac{1}{2}, 1\frac{1}{2}$$



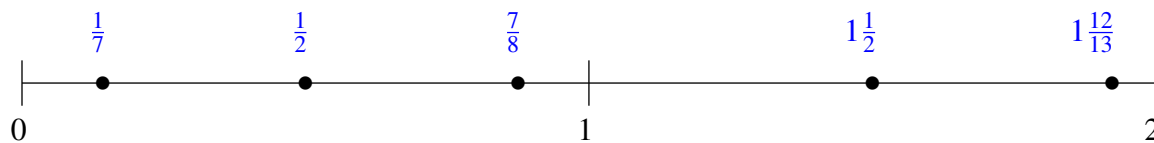
$$\frac{2}{11}, 1\frac{18}{19}, \frac{2}{3}, 1\frac{1}{4}, 1\frac{3}{5}$$



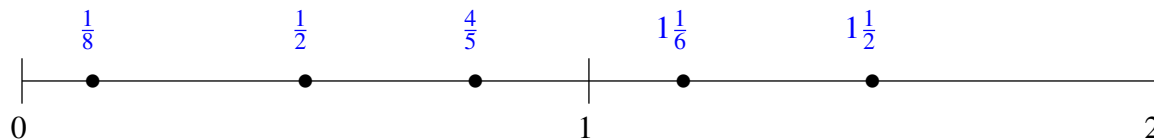
Classification de Fractions (H) Solutions

À l'aide des droites numériques, classifiez chaque série de fractions ci-dessous en ordre croissant.

$$1\frac{12}{13}, \frac{1}{7}, 1\frac{1}{2}, \frac{1}{2}, \frac{7}{8}$$



$$1\frac{1}{6}, \frac{4}{5}, \frac{1}{8}, \frac{1}{2}, 1\frac{1}{2}$$



$$\frac{2}{11}, 1\frac{18}{19}, \frac{2}{3}, 1\frac{1}{4}, 1\frac{3}{5}$$

