

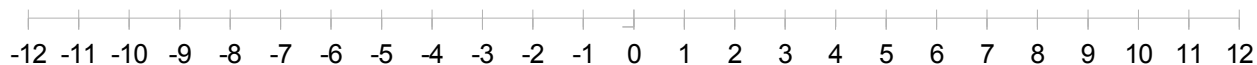
Ordre sur Droite Numérique (A)

Placer chaque entier en ordre sur la droite numérique.

Group 1: 1, -11, -5, 10, 5, -2



Group 2: -12, 12, 5, 1, -6, 4, 9



Group 3: -2, 4, 10, 3, -12, 12, 11, -6



Group 4: 8, -8, -1, 6, -12, 5, 1, 2, 11



Group 5: -1, -12, -4, 6, -10, 4, 2, -5, 8, -9



Group 6: -3, 12, 6, -7, -11, 4, 2, -6, -1, 0, 11



Group 7: 1, 8, 4, 11, 2, -1, 0, 5, -6, -4, -9, -5



Ordre sur Droite Numérique (A) Solutions

Placer chaque entier en ordre sur la droite numérique.

Group 1: 1, -11, -5, 10, 5, -2



Group 2: -12, 12, 5, 1, -6, 4, 9



Group 3: -2, 4, 10, 3, -12, 12, 11, -6



Group 4: 8, -8, -1, 6, -12, 5, 1, 2, 11



Group 5: -1, -12, -4, 6, -10, 4, 2, -5, 8, -9



Group 6: -3, 12, 6, -7, -11, 4, 2, -6, -1, 0, 11



Group 7: 1, 8, 4, 11, 2, -1, 0, 5, -6, -4, -9, -5



MathsLibres.com

Ordre sur Droite Numérique (B)

Placer chaque entier en ordre sur la droite numérique.

Group 1: -12, -8, 3, 8, -6, 10



Group 2: 2, 11, -5, -2, -11, 3, 6



Group 3: 6, 11, -1, 1, 7, -11, -7, 3



Group 4: -4, -5, -10, -2, 10, -8, -12, 0, 7



Group 5: 8, 11, -2, -6, -3, -12, 4, 7, 5, 10



Group 6: -11, -3, 4, -12, -4, -9, -10, 6, 8, 11, 7



-12 -11 -10 -9 -8 -7 -6 -5 -4 -3 -2 -1 0 1 2 3 4 5 6 7 8 9 10 11 12

Group 7: -11, 2, -3, 1, -8, -7, 12, 9, 4, -6, 11, 0



MathsLibres.com

Ordre sur Droite Numérique (B) Solutions

Placer chaque entier en ordre sur la droite numérique.

Group 1: -12, -8, 3, 8, -6, 10



Group 2: 2, 11, -5, -2, -11, 3, 6



Group 3: 6, 11, -1, 1, 7, -11, -7, 3



Group 4: -4, -5, -10, -2, 10, -8, -12, 0, 7



Group 5: 8, 11, -2, -6, -3, -12, 4, 7, 5, 10



Group 6: -11, -3, 4, -12, -4, -9, -10, 6, 8, 11, 7



Group 7: -11, 2, -3, 1, -8, -7, 12, 9, 4, -6, 11, 0



MathsLibres.com

Ordre sur Droite Numérique (C)

Placer chaque entier en ordre sur la droite numérique.

Group 1: 10, -10, 5, -9, 8, 12



Group 2: -5, 7, 6, -1, -4, 3, 8



Group 3: -12, -10, 6, 1, -1, 4, 12, 9



Group 4: -12, 11, 3, -8, -7, -3, 12, 0, 4



Group 5: -5, -8, 7, -6, -2, -12, 11, 6, -7, -1



Group 6: 6, -2, 11, -8, -11, 5, 3, -12, 0, 12, 10



Group 7: 3, 1, 2, 4, -12, 9, 7, -9, -6, -10, -1, -5



MathsLibres.com

Ordre sur Droite Numérique (C) Solutions

Placer chaque entier en ordre sur la droite numérique.

Group 1: 10, -10, 5, -9, 8, 12



Group 2: -5, 7, 6, -1, -4, 3, 8



Group 3: -12, -10, 6, 1, -1, 4, 12, 9



Group 4: -12, 11, 3, -8, -7, -3, 12, 0, 4



Group 5: -5, -8, 7, -6, -2, -12, 11, 6, -7, -1



Group 6: 6, -2, 11, -8, -11, 5, 3, -12, 0, 12, 10



Group 7: 3, 1, 2, 4, -12, 9, 7, -9, -6, -10, -1, -5



MathsLibres.com
Ordre sur Droite Numérique (D)

Placer chaque entier en ordre sur la droite numérique.

Group 1: -11, 3, -2, 1, 5, -12



Group 2: 9, -11, 12, 6, -8, -6, 11



Group 3: 2, 10, -7, 6, 11, 5, 7, -2



-12 -11 -10 -9 -8 -7 -6 -5 -4 -3 -2 -1 0 1 2 3 4 5 6 7 8 9 10 11 12

Group 4: 11, 4, -2, -11, 0, -6, -9, 12, 3



Group 5: 5, 6, -5, -7, -6, 12, 8, 11, -1, 10



Group 6: 6, 11, -11, -9, 1, 7, -5, -6, -4, -8, -1



Group 7: 0, 8, 6, -9, -8, -1, -5, 9, 1, 10, -11, 4



MathsLibres.com

Ordre sur Droite Numérique (D) Solutions

Placer chaque entier en ordre sur la droite numérique.

Group 1: -11, 3, -2, 1, 5, -12



Group 2: 9, -11, 12, 6, -8, -6, 11



Group 3: 2, 10, -7, 6, 11, 5, 7, -2



Group 4: 11, 4, -2, -11, 0, -6, -9, 12, 3



Group 5: 5, 6, -5, -7, -6, 12, 8, 11, -1, 10



Group 6: 6, 11, -11, -9, 1, 7, -5, -6, -4, -8, -1



Group 7: 0, 8, 6, -9, -8, -1, -5, 9, 1, 10, -11, 4



MathsLibres.com

Ordre sur Droite Numérique (E)

Placer chaque entier en ordre sur la droite numérique.

Group 1: -10, 8, -3, -9, 10, 7



Group 2: 11, 9, 3, -2, -9, -3, -11



Group 3: 12, 2, -8, 4, 6, 7, -4, 9



Group 4: 5, 7, 12, 6, 9, -3, -7, -11, -10



Group 5: -5, -7, 7, 6, 2, -2, 8, 4, 3, -6



Group 6: 8, 7, 12, -4, -3, 11, 5, -11, 6, 9, 1



Group 7: -10, -4, -11, -9, 2, -6, -2, 8, -8, 4, 0, -12



MathsLibres.com

Ordre sur Droite Numérique (E) Solutions

Placer chaque entier en ordre sur la droite numérique.

Group 1: -10, 8, -3, -9, 10, 7



Group 2: 11, 9, 3, -2, -9, -3, -11



Group 3: 12, 2, -8, 4, 6, 7, -4, 9



Group 4: 5, 7, 12, 6, 9, -3, -7, -11, -10



Group 5: -5, -7, 7, 6, 2, -2, 8, 4, 3, -6



Group 6: 8, 7, 12, -4, -3, 11, 5, -11, 6, 9, 1



Group 7: -10, -4, -11, -9, 2, -6, -2, 8, -8, 4, 0, -12



MathsLibres.com

Ordre sur Droite Numérique (F)

Placer chaque entier en ordre sur la droite numérique.

Group 1: -2, -6, -5, 3, 9, -3



Group 2: 4, -7, 10, -8, 3, -5, 2



Group 3: -2, 7, 8, 4, -10, -11, 9, -4



Group 4: -6, 4, -8, -4, -2, 0, 8, 1, 11



Group 5: 6, -7, -1, 5, -10, -12, -2, -6, 1, 9



Group 6: 5, 4, -5, -9, 3, -4, -2, 7, -7, -10, 10



Group 7: -6, -7, 2, 11, 4, -4, 7, -9, -12, -3, -5, 6



Ordre sur Droite Numérique (F) Solutions

Placer chaque entier en ordre sur la droite numérique.

Group 1: -2, -6, -5, 3, 9, -3



Group 2: 4, -7, 10, -8, 3, -5, 2



Group 3: -2, 7, 8, 4, -10, -11, 9, -4



Group 4: -6, 4, -8, -4, -2, 0, 8, 1, 11



Group 5: 6, -7, -1, 5, -10, -12, -2, -6, 1, 9



Group 6: 5, 4, -5, -9, 3, -4, -2, 7, -7, -10, 10



Group 7: -6, -7, 2, 11, 4, -4, 7, -9, -12, -3, -5, 6



Ordre sur Droite Numérique (G)

Placer chaque entier en ordre sur la droite numérique.

Group 1: 7, 9, 2, -3, 5, -8



Group 2: 12, 11, 3, 4, -8, 6, -7



Group 3: 1, -8, 0, 9, -12, -1, -9, -5



Group 4: 9, -1, 4, -4, -3, 8, 3, -2, -10



Group 5: 5, 8, -2, 12, -9, 3, -3, 1, 6, 9



Group 6: 4, 8, 3, 5, 2, -6, -1, -4, 6, -9, -3



Group 7: 12, -6, 2, -12, 11, 6, -8, 8, -9, -2, 3, -1



MathsLibres.com

Ordre sur Droite Numérique (G) Solutions

Placer chaque entier en ordre sur la droite numérique.

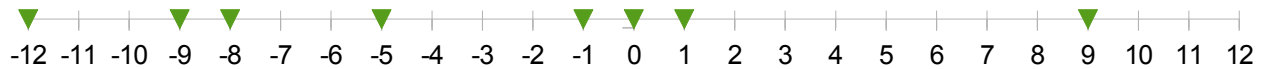
Group 1: 7, 9, 2, -3, 5, -8



Group 2: 12, 11, 3, 4, -8, 6, -7



Group 3: 1, -8, 0, 9, -12, -1, -9, -5



Group 4: 9, -1, 4, -4, -3, 8, 3, -2, -10



Group 5: 5, 8, -2, 12, -9, 3, -3, 1, 6, 9



Group 6: 4, 8, 3, 5, 2, -6, -1, -4, 6, -9, -3



-12 -11 -10 -9 -8 -7 -6 -5 -4 -3 -2 -1 0 1 2 3 4 5 6 7 8 9 10 11 12

Group 7: 12, -6, 2, -12, 11, 6, -8, 8, -9, -2, 3, -1



MathsLibres.com

Ordre sur Droite Numérique (H)

Placer chaque entier en ordre sur la droite numérique.

Group 1: 0, 6, 11, 4, -1, -9



Group 2: -1, 12, 11, -12, 0, 9, -6



Group 3: 11, -3, 9, -10, -12, -6, -7, 1



Group 4: 6, -9, 8, 0, -5, 5, -8, 12, 9



Group 5: 11, 4, -8, -9, -11, 0, -1, 5, -10, 1



Group 6: 1, 4, -5, 0, 10, -2, 5, -3, -7, 7, -12



Group 7: 9, 2, -3, 4, -4, 1, -8, 11, 12, 6, -9, 5

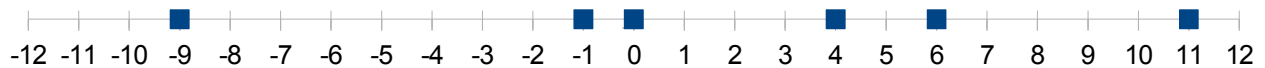


MathsLibres.com

Ordre sur Droite Numérique (H) Solutions

Placer chaque entier en ordre sur la droite numérique.

Group 1: 0, 6, 11, 4, -1, -9



Group 2: -1, 12, 11, -12, 0, 9, -6



Group 3: 11, -3, 9, -10, -12, -6, -7, 1




Group 4: 6, -9, 8, 0, -5, 5, -8, 12, 9



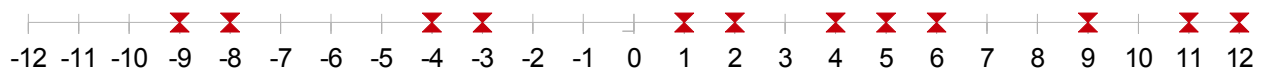
Group 5: 11, 4, -8, -9, -11, 0, -1, 5, -10, 1



Group 6: 1, 4, -5, 0, 10, -2, 5, -3, -7, 7, -12



Group 7: 9, 2, -3, 4, -4, 1, -8, 11, 12, 6, -9, 5



MathsLibres.com

Ordre sur Droite Numérique (I)

Placer chaque entier en ordre sur la droite numérique.

Group 1: -3, -10, -5, 7, 3, -2



Group 2: -5, 1, 8, -10, 9, 2, -11



Group 3: 7, 3, 10, -5, 4, 6, -11, 1



Group 4: -5, 0, -1, -3, 4, 11, 2, -12, -10



Group 5: 2, 5, 0, -3, -11, -1, -8, -12, 1, 9



Group 6: 12, 4, -10, -1, -9, 1, 3, 5, 2, -5, 7



Group 7: -10, -6, -12, 9, 10, 1, 7, -3, 5, 4, 12, -4



MathsLibres.com

Ordre sur Droite Numérique (I) Solutions

Placer chaque entier en ordre sur la droite numérique.

Group 1: -3, -10, -5, 7, 3, -2



Group 2: -5, 1, 8, -10, 9, 2, -11



Group 3: 7, 3, 10, -5, 4, 6, -11, 1

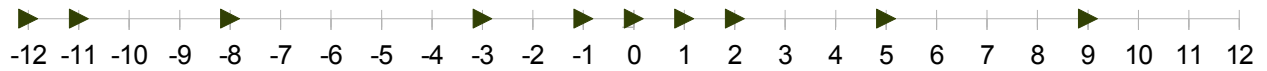


-12 -11 -10 -9 -8 -7 -6 -5 -4 -3 -2 -1 0 1 2 3 4 5 6 7 8 9 10 11 12

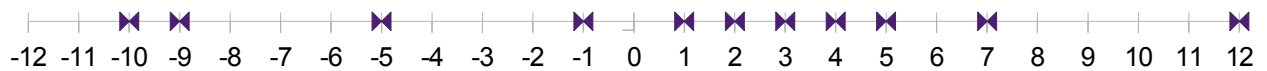
Group 4: -5, 0, -1, -3, 4, 11, 2, -12, -10



Group 5: 2, 5, 0, -3, -11, -1, -8, -12, 1, 9



Group 6: 12, 4, -10, -1, -9, 1, 3, 5, 2, -5, 7



Group 7: -10, -6, -12, 9, 10, 1, 7, -3, 5, 4, 12, -4



MathsLibres.com

Ordre sur Droite Numérique (J)

Placer chaque entier en ordre sur la droite numérique.

Group 1: -2, -5, -12, 6, -7, -11



Group 2: 1, 11, -10, -8, -1, 4, 2



Group 3: 7, 11, 8, 3, -5, -2, 2, 5



Group 4: -3, 2, 4, 8, 5, 12, -4, -12, -6



Group 5: -7, -6, -11, -9, 4, 3, 7, 6, -5, 8



Group 6: 9, 4, 6, -6, -8, 0, 5, 11, -5, 8, 7



Group 7: -8, -4, -12, 4, 9, -9, -11, -10, 12, -3, 2, 8



MathsLibres.com

Ordre sur Droite Numérique (J) Solutions

Placer chaque entier en ordre sur la droite numérique.

Group 1: -2, -5, -12, 6, -7, -11



Group 2: 1, 11, -10, -8, -1, 4, 2



Group 3: 7, 11, 8, 3, -5, -2, 2, 5



Group 4: -3, 2, 4, 8, 5, 12, -4, -12, -6



Group 5: -7, -6, -11, -9, 4, 3, 7, 6, -5, 8



Group 6: 9, 4, 6, -6, -8, 0, 5, 11, -5, 8, 7



Group 7: -8, -4, -12, 4, 9, -9, -11, -10, 12, -3, 2, 8

