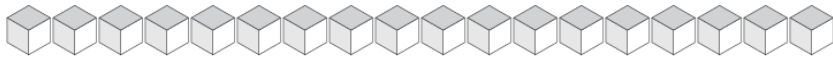
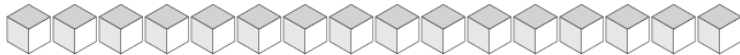


Échange de Blocs de Base Dix (B)

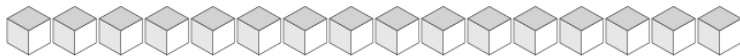
Combien d'unités pouvez-vous échanger pour des dizaines? Combien vous en restera-t-il?



Dizaines	Unités



Dizaines	Unités



Dizaines	Unités



Dizaines	Unités



Dizaines	Unités

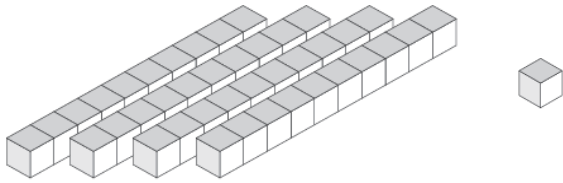


Dizaines	Unités

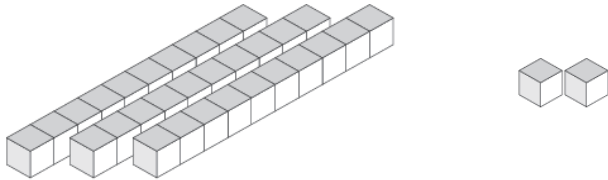


Échange de Blocs de Base Dix (B) Solutions

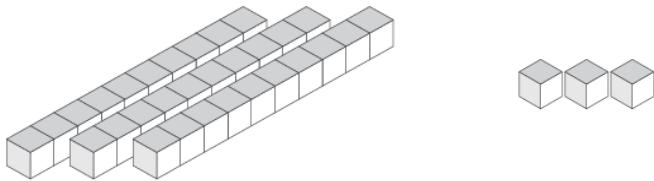
Combien d'unités pouvez-vous échanger pour des dizaines? Combien vous en restera-t-il?



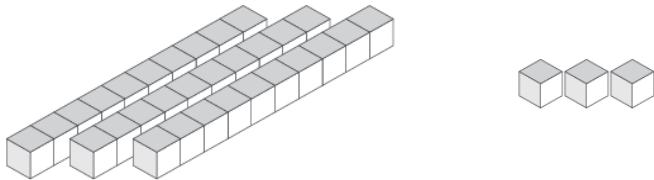
Dizaines	Unités
4	1



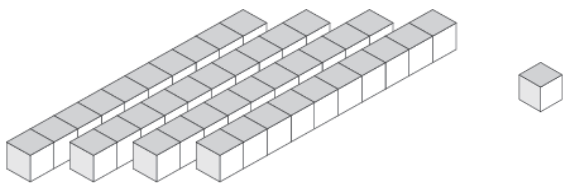
Dizaines	Unités
3	2



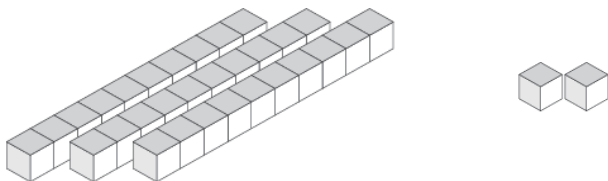
Dizaines	Unités
3	3



Dizaines	Unités
3	3



Dizaines	Unités
4	1



Dizaines	Unités
3	2