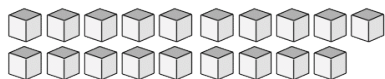
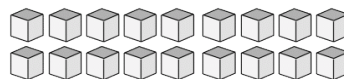


# Compte de Blocs de Base Dix (C)

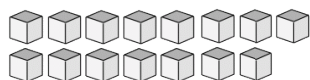
Instructions: Comptez le nombre d'unités qui se trouvent dans chaque groupe ci-dessous.



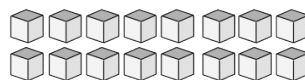
Il y a \_\_\_\_\_ unités  
dans ce groupe.



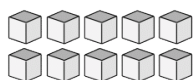
Il y a \_\_\_\_\_ unités  
dans ce groupe.



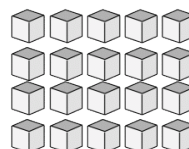
Il y a \_\_\_\_\_ unités  
dans ce groupe.



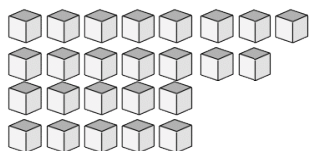
Il y a \_\_\_\_\_ unités  
dans ce groupe.



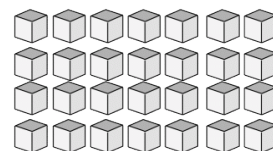
Il y a \_\_\_\_\_ unités  
dans ce groupe.



Il y a \_\_\_\_\_ unités  
dans ce groupe.



Il y a \_\_\_\_\_ unités  
dans ce groupe.



Il y a \_\_\_\_\_ unités  
dans ce groupe.