

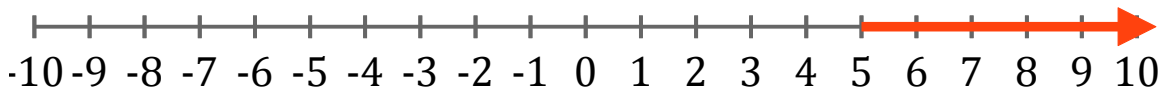
Systeme d'Inequations (D)

Trouvez les solutions des systemes d'inequations suivantes.

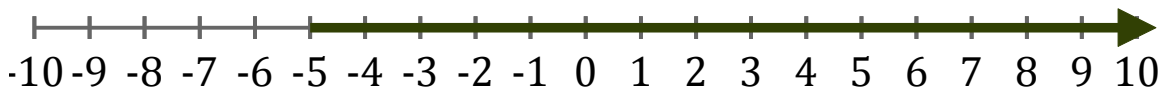
1. _____



2. _____



3. _____



4. _____



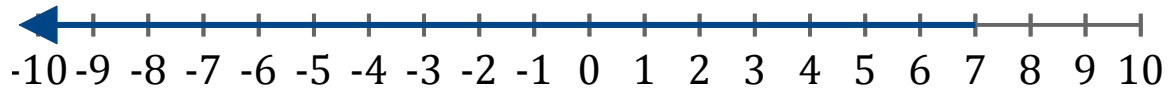
5. _____



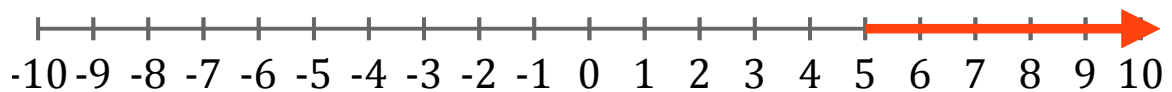
Systeme d'Inéquations (D) Réponses

Trouvez les solutions des systèmes d'inéquations suivantes.

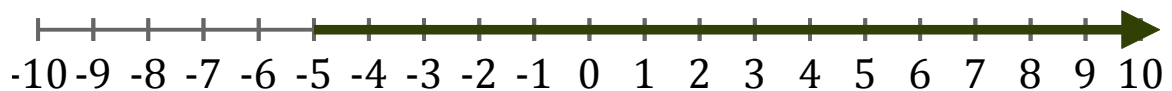
1. $x < 7$



2. $x > 5$



3. $x > -5$



4. $x > -5$



5. $x \leq 4$

