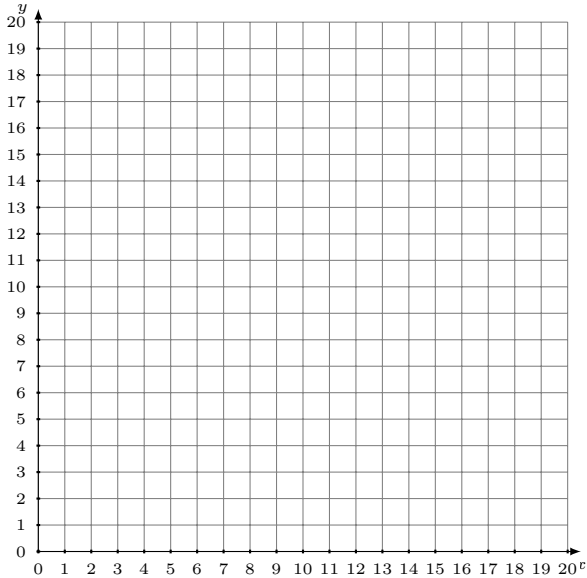


# Représentation Graphique d'un Système d'Équations (F)

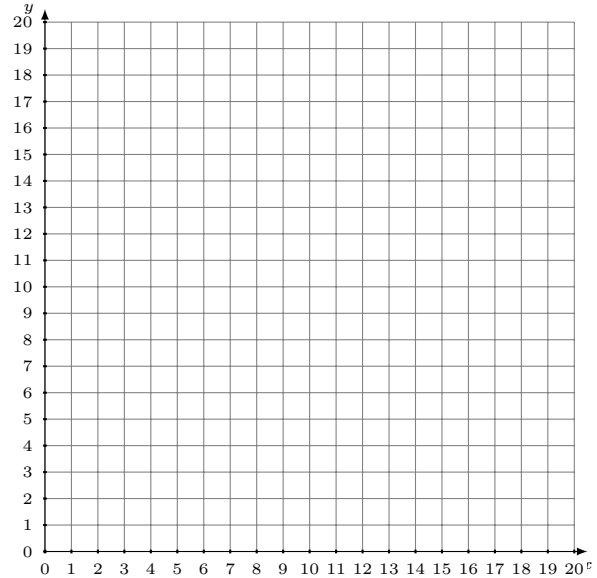
Représentez à l'aide d'un graphique chaque système et identifiez sa solution.

1. 
$$17x - 6y = -12$$
$$x - 3y = -51$$



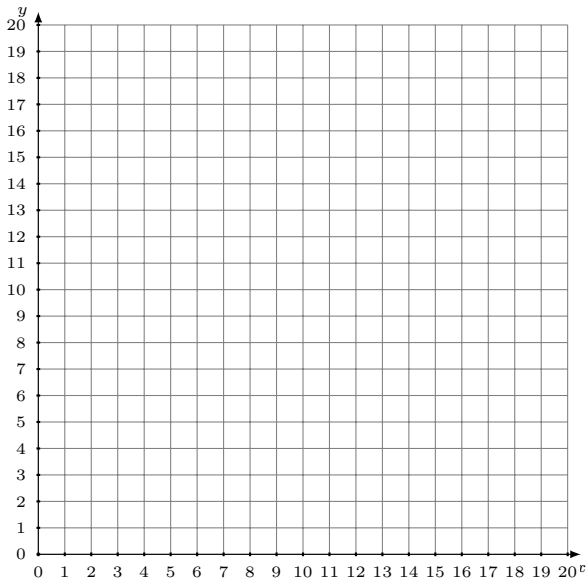
Solution: (-----,-----)

2. 
$$x - 2y = -12$$
$$x + 8y = 128$$



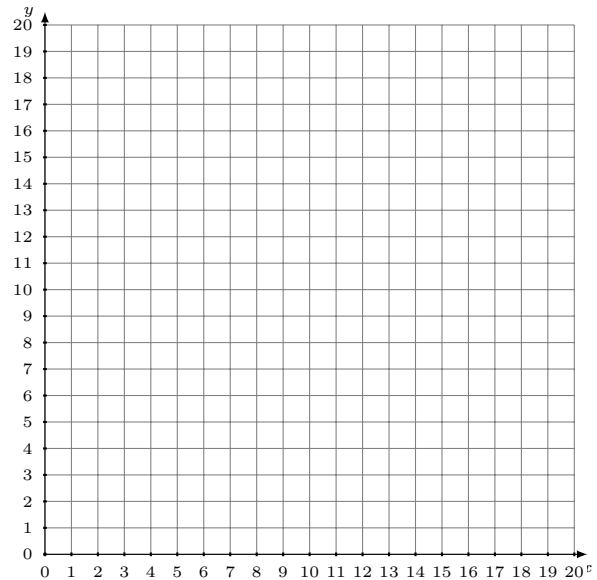
Solution: (-----,-----)

3. 
$$x + 11y = 44$$
$$7x + 11y = 110$$



Solution: (-----,-----)

4. 
$$x + y = 17$$
$$5x - 4y = -32$$



Solution: (-----,-----)