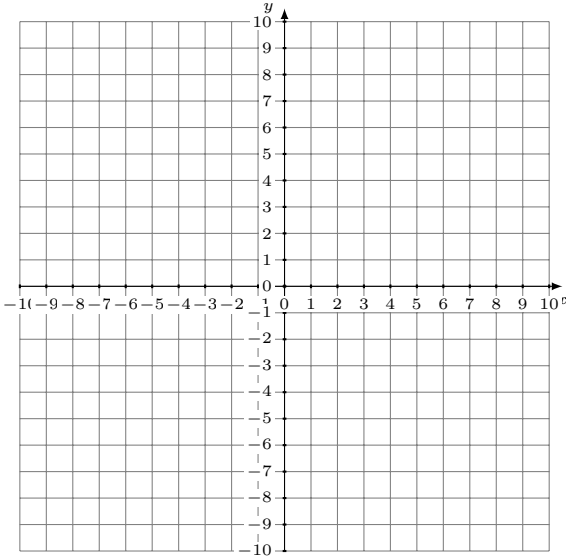


# Représentation Graphique d'un Système d'Équations (C)

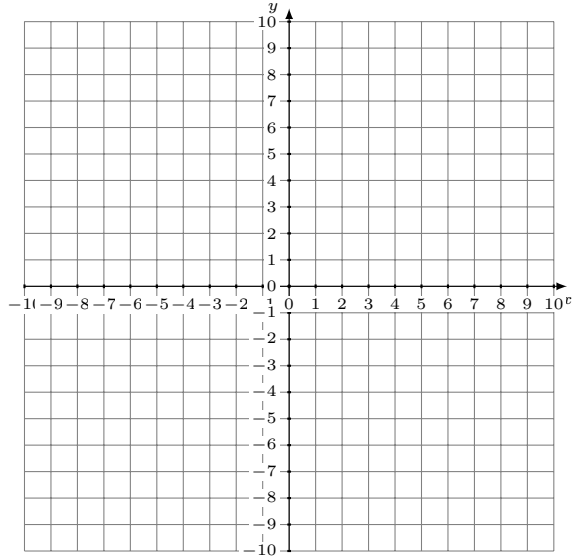
Représentez à l'aide d'un graphique chaque système et identifiez sa solution.

1.  $3x - y = 3$   
 $5x - y = 7$



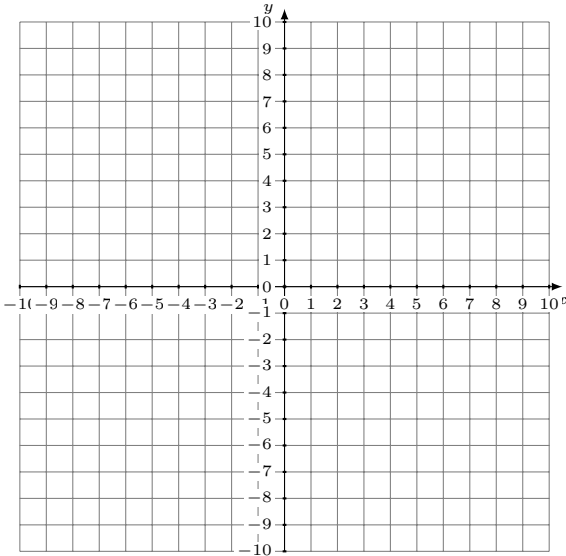
Solution: (----,----)

2.  $y = \frac{8}{5}x + 1$   
 $y = \frac{11}{5}x + 4$



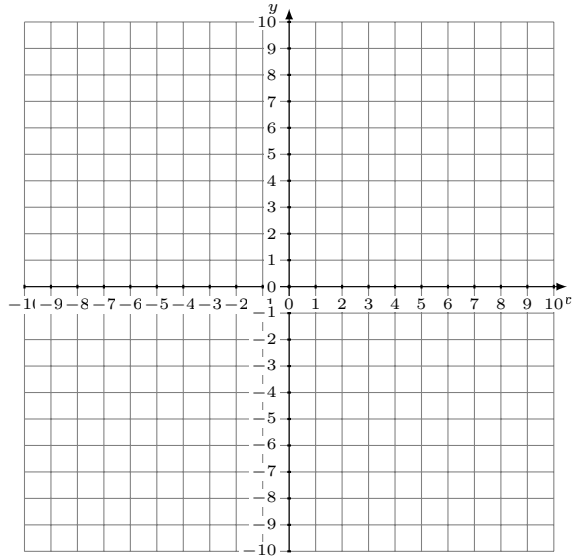
Solution: (----,----)

3.  $y = \frac{3}{7}x - 6$   
 $y = -\frac{12}{7}x + 9$



Solution: (----,----)

4.  $11x + 2y = -10$   
 $y = -\frac{9}{2}x - 3$



Solution: (----,----)