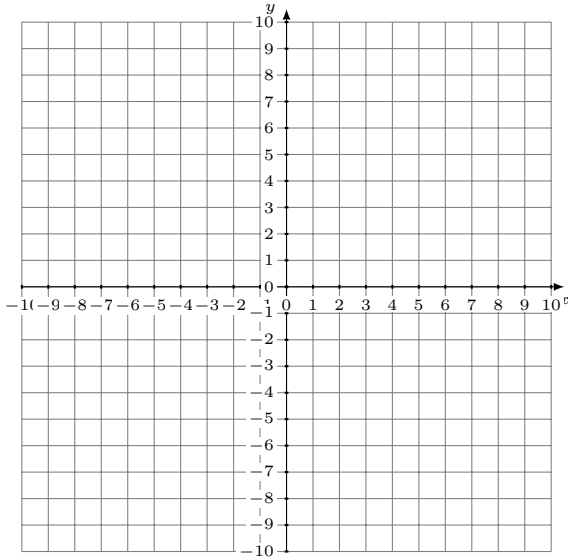


# Représentation Graphique d'un Système d'Équations (J)

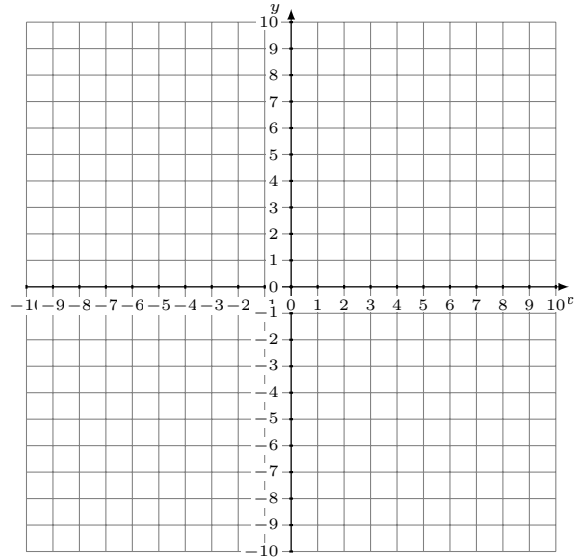
Représentez à l'aide d'un graphique chaque système et identifiez sa solution.

1.  $11x - y = 9$   
 $5x - y = 3$



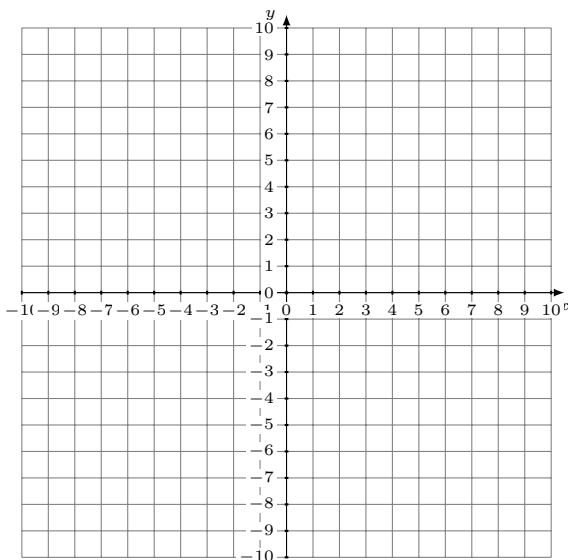
Solution: (----,----)

2.  $3x - 5y = -10$   
 $6x - 5y = 5$



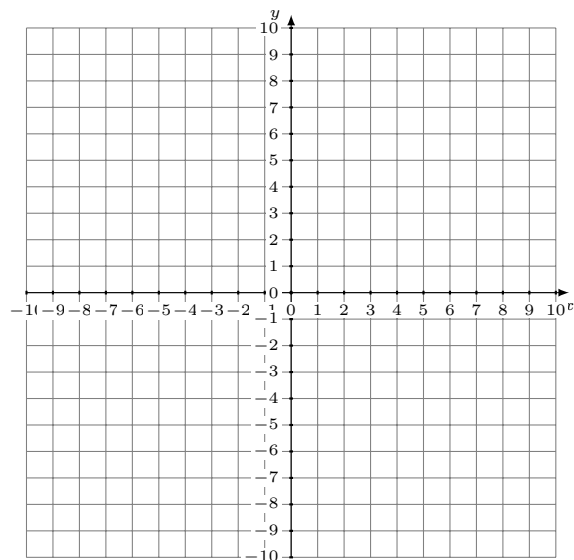
Solution: (----,----)

3.  $14x + y = 9$   
 $4x - y = 9$



Solution: (----,----)

4.  $8x - 5y = 10$   
 $11x - 5y = 25$



Solution: (----,----)