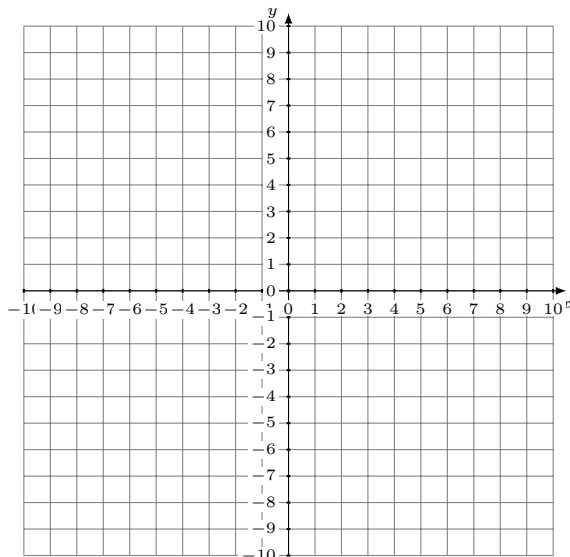


Représentation Graphique d'un Système d'Équations (H)

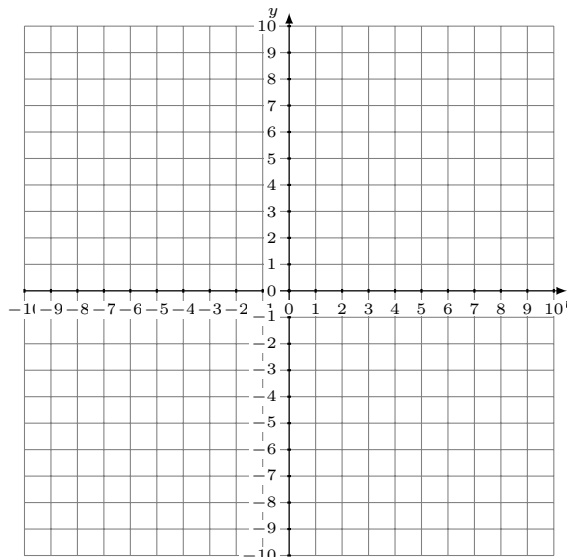
Représentez à l'aide d'un graphique chaque système et identifiez sa solution.

1.
$$6x - 7y = 63$$
$$3x - 7y = 42$$



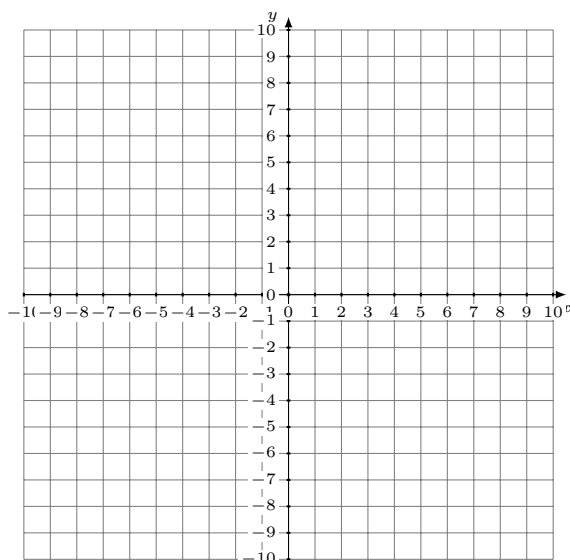
Solution: (----,----)

2.
$$3x + 7y = 63$$
$$x - y = 1$$



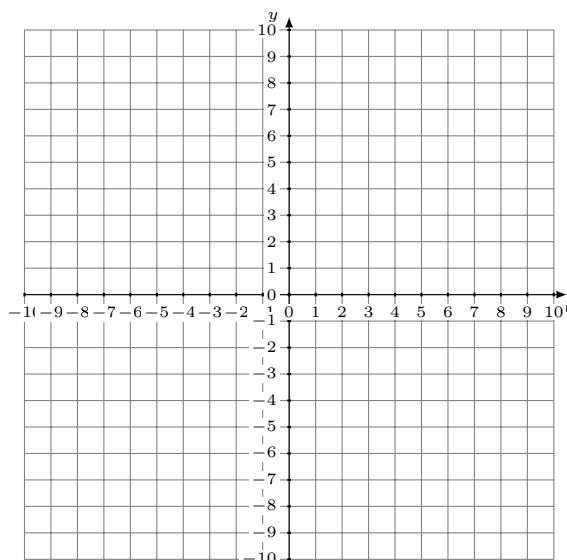
Solution: (----,----)

3.
$$2x - y = 3$$
$$5x + y = 4$$



Solution: (----,----)

4.
$$x - y = 2$$
$$7x - 3y = 18$$



Solution: (----,----)