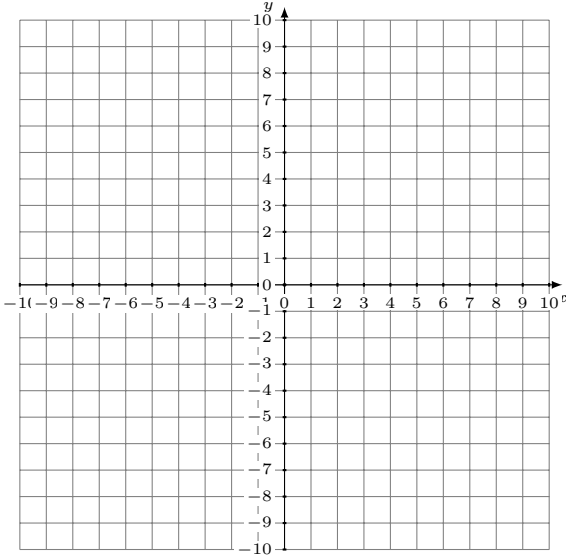


# Représentation Graphique d'un Système d'Équations (B)

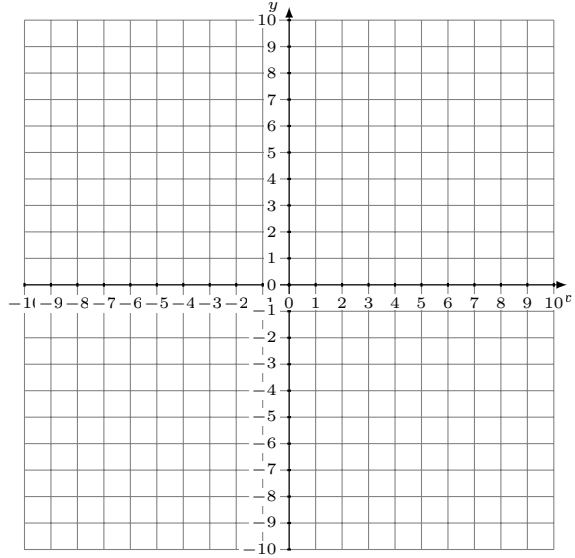
Représentez à l'aide d'un graphique chaque système et identifiez sa solution.

1. 
$$x - y = -8$$
$$12x + y = -5$$



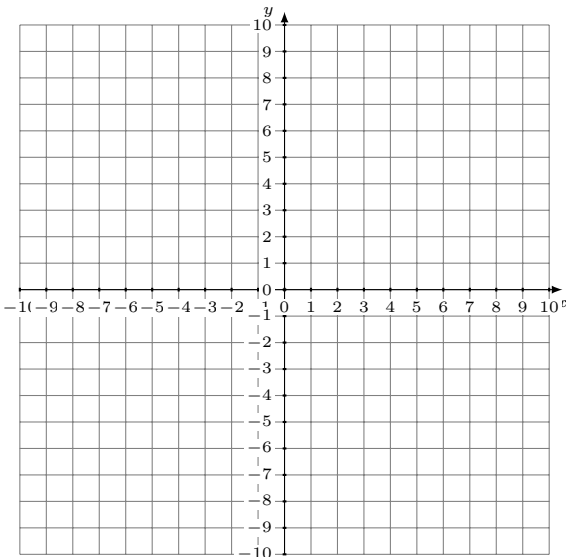
Solution: (----,----)

2. 
$$x - 3y = -18$$
$$7x - 9y = -18$$



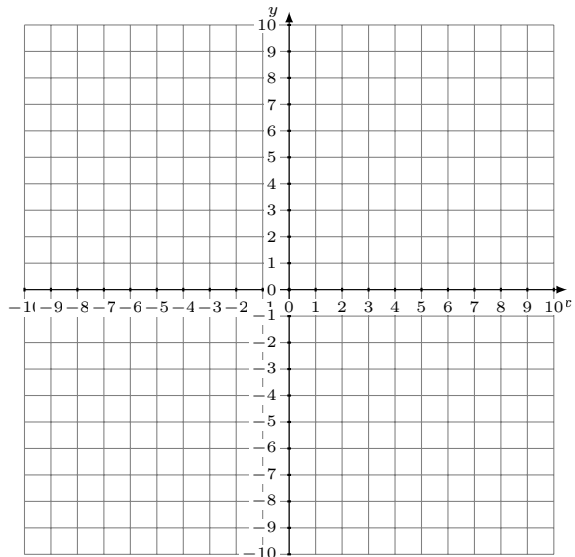
Solution: (----,----)

3. 
$$2x + y = 7$$
$$5x - y = 7$$



Solution: (----,----)

4. 
$$y = 3$$
$$x - 4y = -8$$



Solution: (----,----)