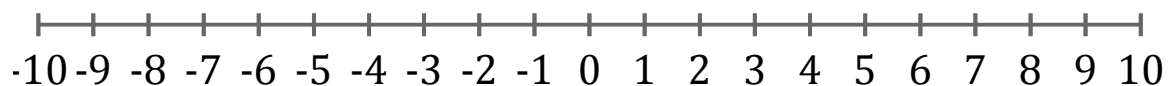


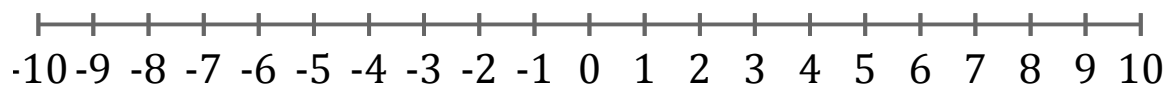
Représentation Graphique d'une Inéquation (J)

Représentez sur une droite graduée la solution de l'inéquation suivante.

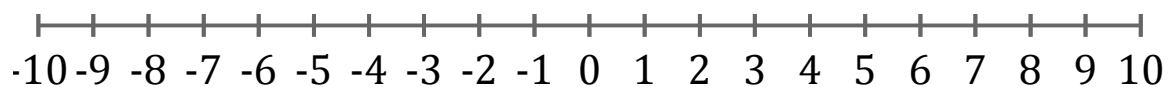
1. $x > 5$



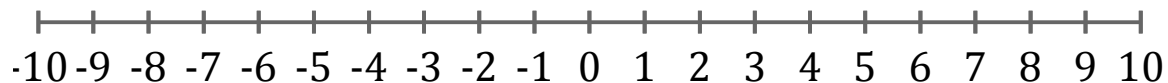
2. $x \leq 4$



3. $x < -7$



4. $x \leq 8$



5. $x \leq 1$

