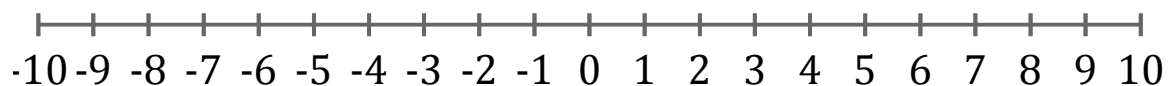


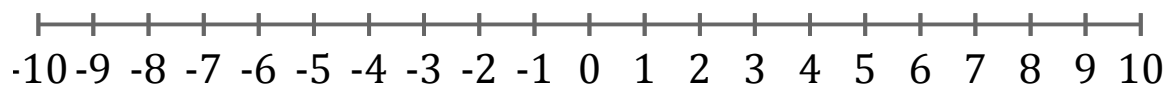
Représentation Graphique d'une Inéquation (H)

Représentez sur une droite graduée la solution de l'inéquation suivante.

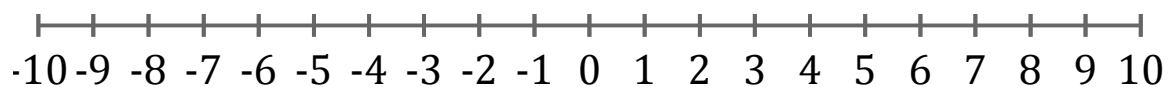
1. $x > -8$



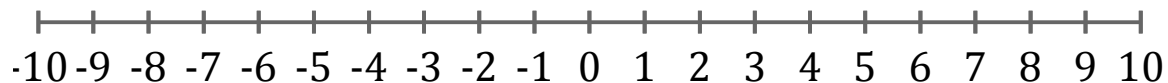
2. $x \leq -8$



3. $x < -9$



4. $x > -1$



5. $x < 0$

