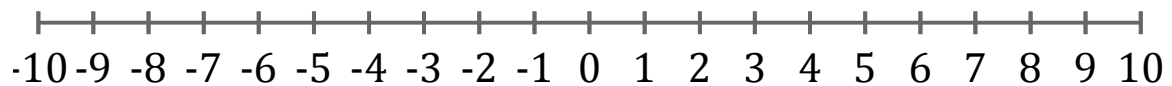


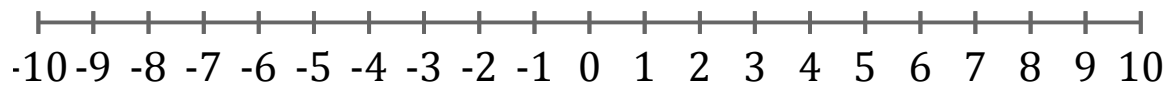
Représentation Graphique d'une Inéquation (C)

Représentez sur une droite graduée la solution de l'inéquation suivante.

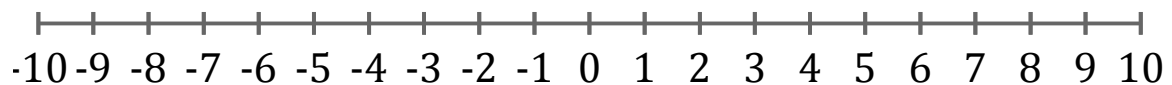
1. $x \leq -4$



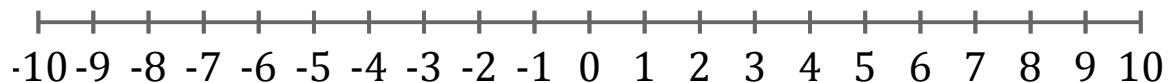
2. $x > -3$



3. $x \leq 4$



4. $x < 9$



5. $x \leq 9$

