



Rapport Action de Grâce (H)


Trouver chaque rapport et simplifier, si nécessaire.



$$\begin{aligned} \text{🍂} : \text{🎃} &= \quad : \quad = \quad : \\ \text{🎃} : \text{🍂} &= \quad : \quad = \quad : \end{aligned}$$



$$\begin{aligned} \text{🦃} : \text{🥧} &= \quad : \quad = \quad : \\ \text{🥧} : \text{🦃} &= \quad : \quad = \quad : \end{aligned}$$




$$\begin{aligned} \text{🦃} : (\text{🦃} + \text{🥧}) &= \quad : \quad = \quad : \\ \text{🥧} : (\text{🥧} + \text{🦃}) &= \quad : \quad = \quad : \end{aligned}$$



$$\begin{aligned} \text{🦃} : (\text{🦃} + \text{🥧}) &= \quad : \quad = \quad : \\ \text{🥧} : (\text{🥧} + \text{🦃}) &= \quad : \quad = \quad : \end{aligned}$$


Rapport Action de Grâce (H) Solutions

Trouver chaque rapport et simplifier, si nécessaire.




$$\text{🍂} : \text{🎃} = 10 : 10 = 1 : 1$$

$$\text{🎃} : \text{🍂} = 10 : 10 = 1 : 1$$



$$\text{🦃} : \text{🥧} = 5 : 7 = 5 : 7$$

$$\text{🥧} : \text{🦃} = 7 : 5 = 7 : 5$$



$$\text{🦃} : (\text{🥧} + \text{🥧}) = 9 : 19 = 9 : 19$$

$$\text{🥧} : (\text{🥧} + \text{🦃}) = 10 : 19 = 10 : 19$$



$$\text{🦃} : (\text{🥧} + \text{🥧}) = 3 : 15 = 1 : 5$$

$$\text{🥧} : (\text{🥧} + \text{🦃}) = 12 : 15 = 4 : 5$$